

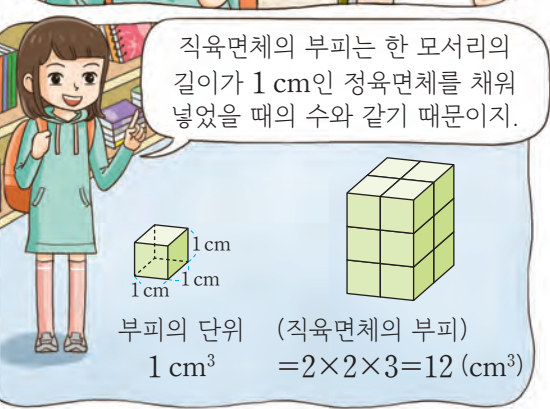





직육면체의 부피와 겉넓이를 정리해 볼까요



	상	중	하
이 단원의 공부 되돌아보기	1 cm ³ , 1 m ³ 의 단위를 알고 그 관계를 이해했나요?		
	직육면체와 정육면체의 부피와 겉넓이를 구하는 방법을 알고 구할 수 있나요?		
	문제를 스스로 해결하려고 노력했나요?		