



# 여러 가지 그래프로 정리해 볼까요



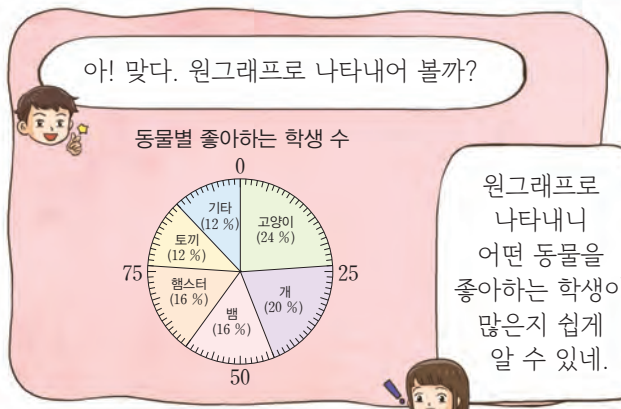
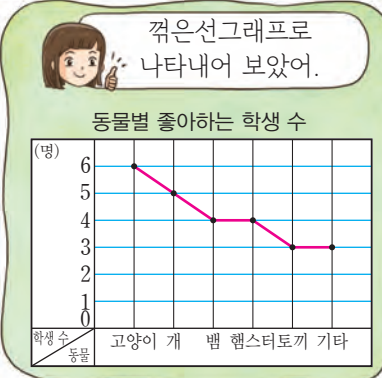
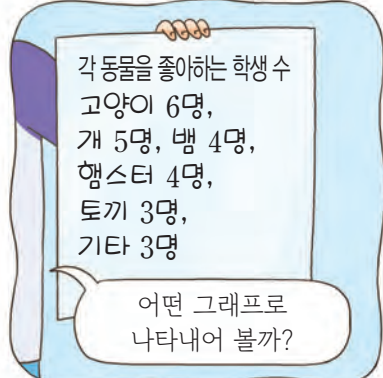
지역별 우유 생산량

지역	우유 생산량
가	10t
나	5t
다	3t
라	1t



소 모양은 지역별로 생산되는 우유의 양을 나타낸 거야.

동물별 좋아하는 학생 수를 그래프로 나타내어 보자.



이 단원의 공부 되돌아보기	비율에 맞게 띠그래프, 원그래프를 그릴 수 있나요?	상	중	하
	여러 가지 그래프를 적절하게 사용할 수 있나요?			
	문제를 스스로 해결하려고 노력했나요?			