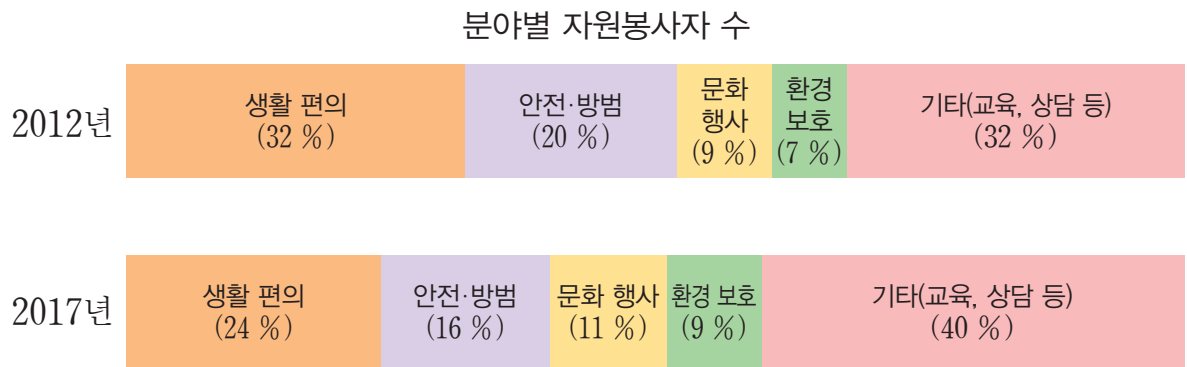



1

지혜는 2012년과 2017년의 분야별 자원봉사자 수를 조사하여 각각 띠그래프로 나타냈습니다. 그래프를 해석해 봅시다.

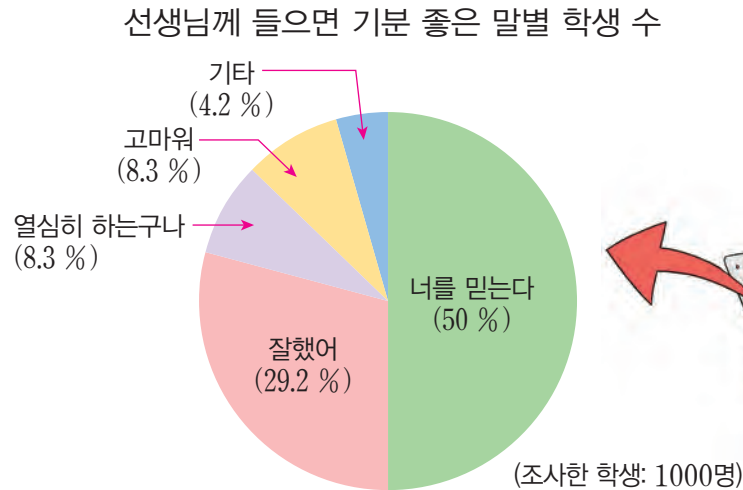


(출처: 분야별 현황, 1365 자원봉사 포털, 2017.)

- 2012년의 안전·방법 또는 문화 행사를 돕는 자원봉사자 수는 전체의 몇 % 인가요?
- 2017년의 생활 편의를 돕는 자원봉사자 수는 환경 보호를 돕는 자원봉사자 수의 약 몇 배인가요? 
- 2012년과 2017년의 전체에 대한 자원봉사자 수의 비율이 같은 분야를 찾아보세요.
- 띠그래프를 보고 더 알 수 있는 내용을 말해 보세요.



준기는 학교 신문에서 선생님께 들으면 기분 좋은 말을 조사하여 나타낸 원그래프를 보았습니다. 그래프를 해석해 봅시다.



- 조사한 학생은 모두 몇 명인가요?
- 선생님께 들으면 기분 좋은 말 중 10 % 이상의 비율을 차지한 말은 무엇인가요?
- 선생님께 들으면 기분 좋은 말 중 너를 믿는다 또는 잘했어를 선택한 학생 수는 전체의 몇 %인가요?
- 기타에는 어떤 말이 들어갈 수 있을지 말해 보세요.
- 원그래프를 보고 더 알 수 있는 내용을 말해 보세요.



실생활에서 피그래프와 원그래프를 찾아봅시다.

- 신문, 잡지, 인터넷 등에서 피그래프와 원그래프를 각각 찾아보고, 알 수 있는 내용을 말해 보세요.