



# 얼마나 알고 있나요

- 1 빨간색 종이 4장과 초록색 종이 1장으로 꽃을 만들려고 합니다. 빨간색 종이의 수와 초록색 종이의 수를 뺄셈과 나눗셈으로 비교해 보세요.

빨간색 종이	초록색 종이
	

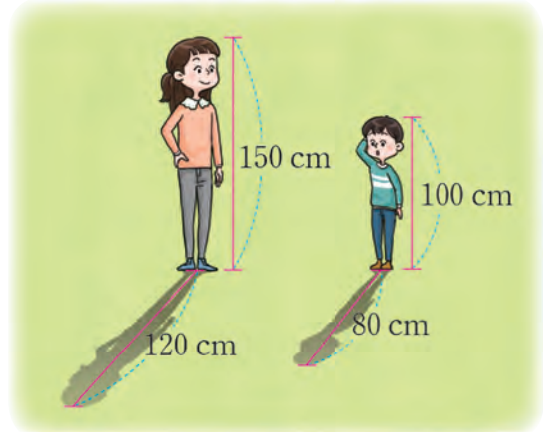
- 2 학교 앞길을 청소하는 자원봉사자 20명 중 여자는 8명입니다. 전체 자원봉사자 수에 대한 남자 자원봉사자 수의 비를 써 보세요.

- 3 지혜와 연수는 농구공 던져 넣기를 했습니다. 두 친구의 성공률을 비교해 보세요.

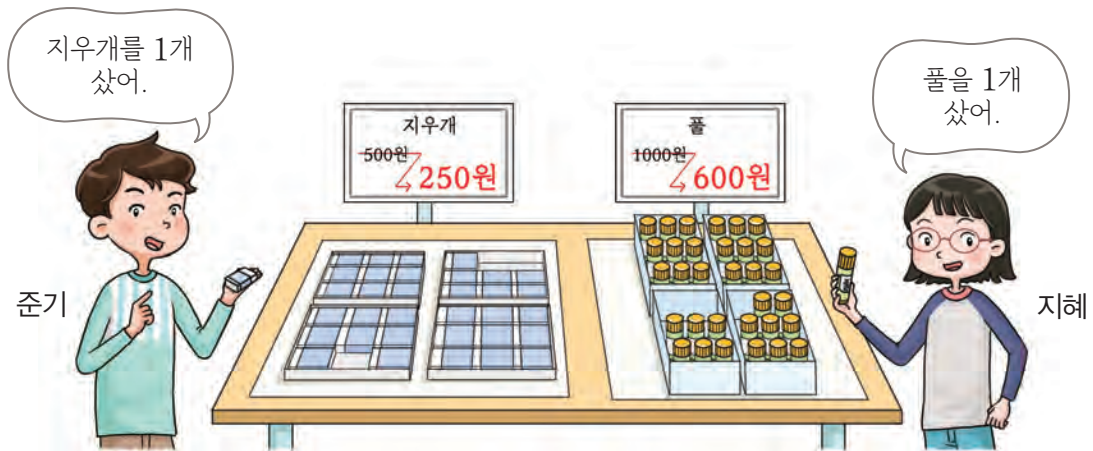


4 공장에서 인형 500개를 만들면 불량품 10개가 나온다고 합니다. 전체 인형 수에 대한 불량품 수의 비율을 백분율로 나타내어 보세요.

5 같은 시각에 연수와 동생의 그림자 길이를 재었습니다. 연수와 동생의 키에 대한 그림자 길이의 비율을 각각 구해 보세요. 두 비율을 비교하고 알게 된 것을 설명해 보세요.



6 준기와 지혜가 문구점에서 학용품을 샀습니다. 지우개와 풀의 할인율을 백분율로 각각 나타내어 보고, 어느 것의 할인율이 더 높은지 알아보세요.



지우개 (                      ) %, 풀 (                      ) %

이/가  보다 할인율이 높습니다.