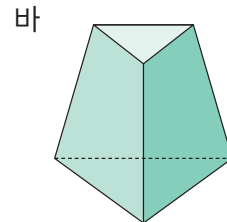
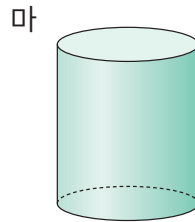
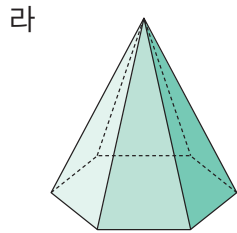
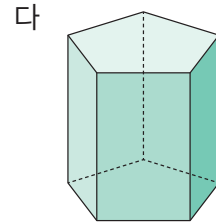
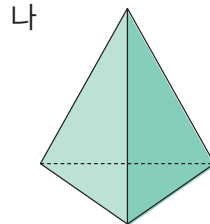
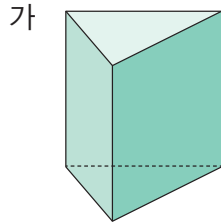


# 각뿔을 알아볼까요(1)

## 1 입체도형을 보고 물음에 답하세요.



- 밑면이 다각형인 도형을 모두 찾아 기호를 써 보세요.

( )

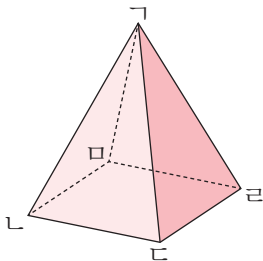
- 밑면이 다각형이고 옆면이 삼각형인 입체도형을 모두 찾아 기호를 써 보세요.

( )

- 밑면이 다각형이고 옆면이 삼각형인 입체도형을 무엇이라고 하나요?

( )

## 2 각뿔을 보고 물음에 답하세요.



- 밑면을 찾아 써 보세요.

( )

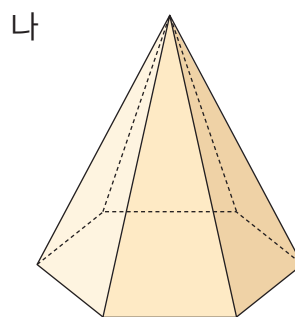
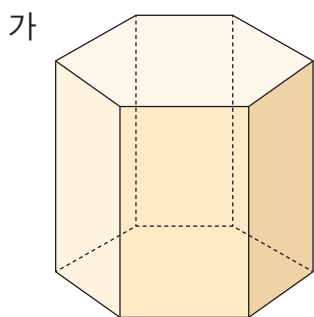
- 밑면과 만나는 면은 몇 개인가요?

( )개

- 옆면을 모두 찾아 써 보세요.

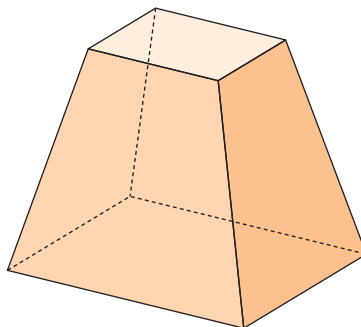
( )

3 입체도형을 보고 표를 완성해 보세요.



도형	밑면의 모양	옆면의 모양	밑면의 수(개)
가		직사각형	
나			

4 다음 입체도형이 각뿔이 아닌 이유를 써 보세요.



이유

---



---