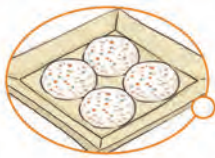


1

분수의 나눗셈

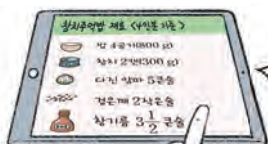
분수의 나눗셈을 알아보까요?




참치주먹밥을
먹고 싶어요!



어떤 재료가
필요한지
검색해 볼까?



앗, 찾았다!
4인분 기준?



1인분을 만들려면 어떻게 하지?



식혜 $\frac{2}{3}$ L를 4명이 똑같이 나누어 마신다면 한 명이 마실 수 있는 식혜의 양은 얼마일까?

매듭실 $\frac{6}{8}$ m를 3등분하여 똑같은 작품 3개를 만든다면 작품 하나에 사용된 매듭실의 길이는 얼마일까?



한지 5장을 4명이 똑같이 나누어 가진다면 한 명이 가지게 되는 한지는 몇 장일까요?

3-2 2. 나눗셈

$$19 \div 5 = 3 \cdots 4$$

몫 나머지

5-1 4. 약분과 통분

$\frac{1}{5}$ 과 크기가 같은 분수: $\frac{2}{10}, \frac{3}{15}, \dots$

배운 내용

『수학 익힘』 5쪽

배울 내용

(자연수) ÷ (자연수)를 하나의 수로 나타낼 수 있을까요?

(분수) ÷ (자연수)를 어떻게 계산할까요?

(분수) ÷ (자연수)가 필요한 경우는 언제일까요?