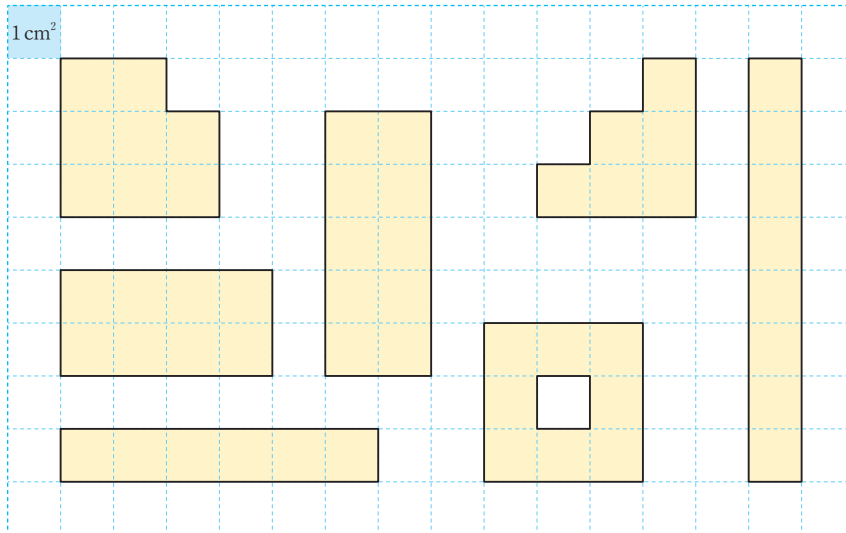


1 cm²를 알아볼까요

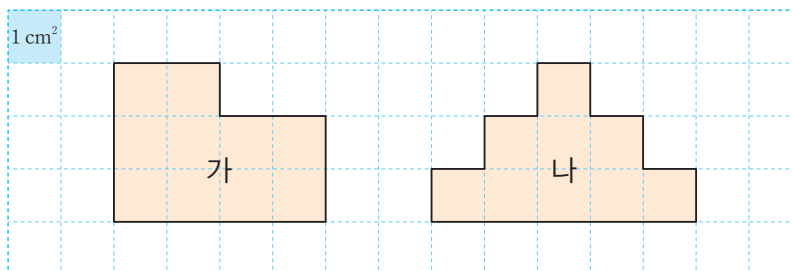
1 주어진 넓이를 쓰고 읽어 보세요.

1 cm ²	쓰기	1 cm ²	1 cm ²	읽기
5 cm ²	쓰기	5 cm ²	5 cm ²	읽기

2 넓이가 8 cm²인 것을 모두 찾아 ○표 하세요.

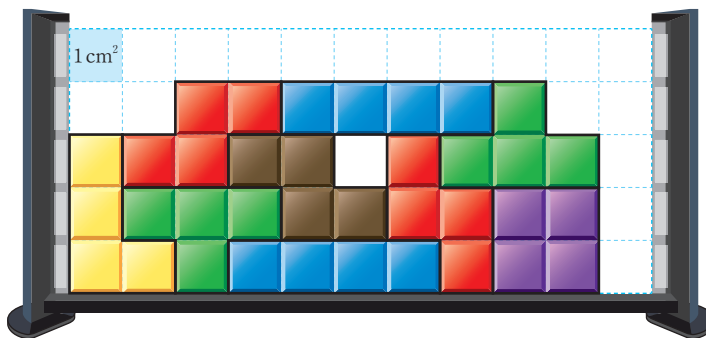



3 안에 알맞은 수를 써넣으세요.



도형 가는 도형 나보다 넓이가 cm² 더 넓습니다.

[4~5] 조각 맞추기 놀이를 하고 있습니다. 물음에 답하세요.



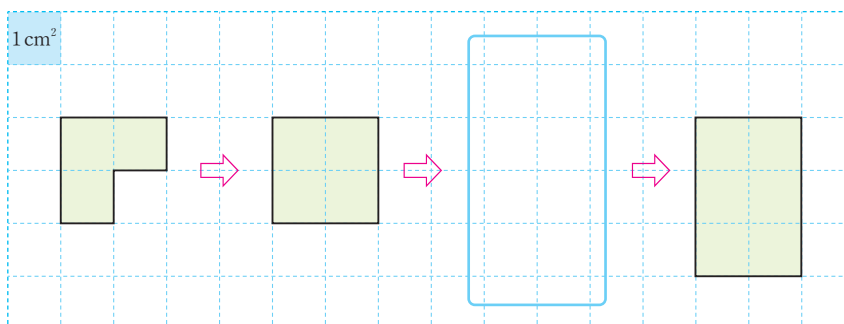
4  으로 채워진 부분의 넓이는 모두 얼마인가요?

() cm^2

5 모양 조각이 차지하는 부분의 넓이는 얼마인가요?

() cm^2

6 도형의 넓이를 1cm^2 씩 늘리며 규칙에 따라 그리려고 합니다. 빈칸에 알맞은 도형을 그려 보세요.



3cm^2

4cm^2

5cm^2

6cm^2