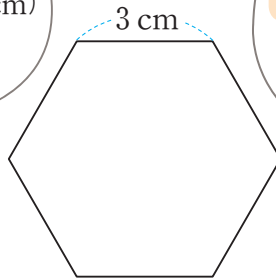


# 정다각형의 둘레를 구해 볼까요

1 슬기와 지혜가 정육각형의 둘레를 구하고 있습니다. □ 안에 알맞은 수를 써넣으세요.

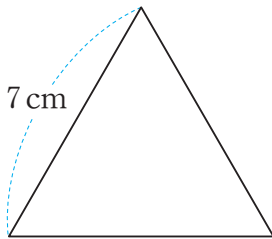
정육각형의 변의 길이를 모두 더하면  
 $3 + \square + \square + \square + \square + \square = 18 \text{ (cm)}$   
 니까 이 정육각형의 둘레는 18 cm야.



정다각형의 둘레는  
 한 변의 길이 × 변의 수 로 구할 수  
 있으니까 이 정육각형의 둘레는  
 $3 \times \square = 18 \text{ (cm)}$ 야.

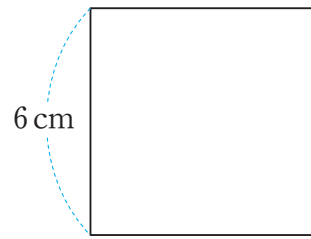


2 정다각형의 둘레를 구해 보세요.



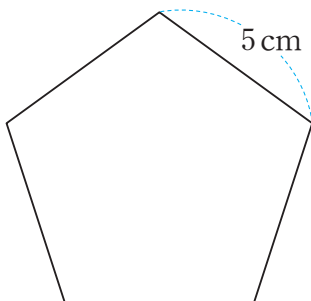
식 \_\_\_\_\_

답 \_\_\_\_\_ cm



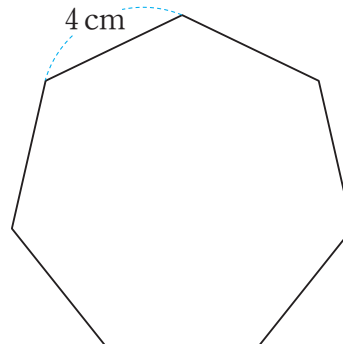
식 \_\_\_\_\_

답 \_\_\_\_\_ cm



식 \_\_\_\_\_

답 \_\_\_\_\_ cm



식 \_\_\_\_\_

답 \_\_\_\_\_ cm

