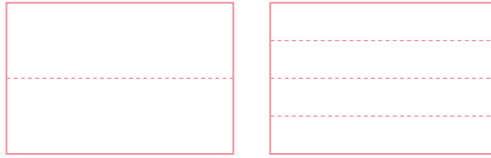


# 크기가 같은 분수를 알아볼까요(1)

1  $\frac{1}{2}$ ,  $\frac{2}{4}$ 만큼 빈칸의 아래부터 색칠하고 알맞은 말에 ○표 하세요.



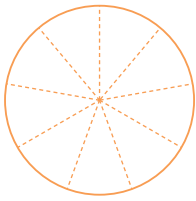
$$\frac{1}{2}$$

$$\frac{2}{4}$$

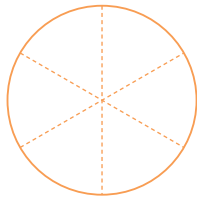
$\frac{1}{2}$ 과  $\frac{2}{4}$ 는 크기가 ( 같은 , 다른 ) 분수입니다.

[2~3] 분수만큼 색칠하고 크기가 같은 분수를 써 보세요.


2



$$\frac{6}{9}$$



$$\frac{3}{6}$$




$$\frac{2}{3}$$

크기가 같은 분수는  와/과  입니다.

3



$$\frac{2}{5}$$



$$\frac{1}{3}$$



$$\frac{6}{15}$$

크기가 같은 분수는  와/과  입니다.

