
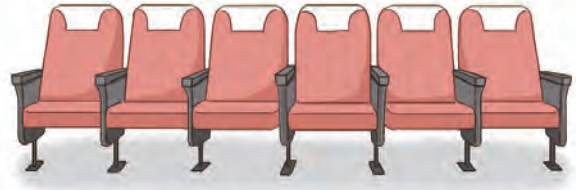


생활 속에서 대응 관계를 찾아 식으로 나타내어 볼까요

1 주변에서 볼 수 있는 대응 관계를 찾아봅시다.




● 서로 대응하는 두 양을 찾아 대응 관계를 써 보세요.

서로 대응하는 두 양		대응 관계
과자의 수	과자 상자의 수	(과자의 수) = (과자 상자의 수) × 12

● 주변에서 볼 수 있는 또 다른 대응 관계를 찾아 말해 보세요.



2 연수와 슬기가 연산 카드와 수 카드를 각각 한 장씩 골라 대응 관계를 나타내고, 알아맞히기를 하고 있습니다. 짝과 함께 활동을 해 봅시다. **준비물 8**



- 연산 카드와 수 카드를 각각 한 장씩 골라 대응 관계를 생각해 보세요.
- 짝이 만든 대응 관계를 표를 이용하여 추측해 보세요.

내가 말한 수					
짝이 답한 수					

- 짝이 만든 대응 관계를 기호를 사용하여 식으로 나타내어 보세요.

내가 말한 수를 기호로 , 짝이 답한 수를 기호로 (이)라고 할 때, 두 양 사이의 대응 관계를 식으로 나타내면 입니다.