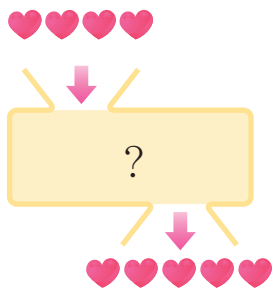
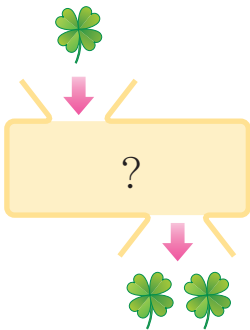
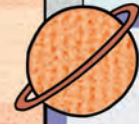


3

규칙과 대응

두 양 사이의 대응 관계를 알아볼까요?





전자 과학 연구소


한 책상 앞에 두 명씩
서 보세요.

책상의 수와
학생의 수 사이에는
어떤 관계가 있을까?



사각판 1개에
바퀴 2개씩
짜 지을게.

연구소 체험 활동에서
서로 일정하게 변하는
두 양을 찾아보세요.



4-1 6. 규칙 찾기

101	201	301	401	501
111	211	311	411	511
121	221	321	421	521

4-1 6. 규칙 찾기



이 배열은 모형이 1개에서 시작하여 오른쪽과 위쪽으로 1개씩 늘어납니다.

배운 내용

『수학 익힘』 31쪽

배울 내용

두 양 사이의 대응 관계를 어떻게 나타낼 수 있을까요?

두 양 사이의 대응 관계를 만들어 볼까요?

생활 주변에서 대응 관계를 찾아볼까요?