

얼마나 알고 있나요

1 32의 약수를 모두 구해 보세요.

()

2 8의 배수 중에서 20보다 큰 수를 모두 찾아 표하세요.

22 24 28 30 32 36 40 42

3 알맞은 말에 표하세요.

$$14=1 \times 14$$

$$14=2 \times 7$$

14는 1, 2, 7, 14의 (약수, 배수)입니다.

1, 2, 7, 14는 14의 (약수, 배수)입니다.

4 36과 48의 최대공약수를 두 가지 방법으로 구해 보세요.

방법 1


방법 2

5 두 수의 최소공배수를 구해 보세요.






()

6 준기와 연수가 각각 아래의 규칙에 따라 바둑돌을 50개씩 놓을 때, 같은 자리에 흰 바둑돌을 놓는 경우는 모두 몇 번인가요?



()번

7 대화를 읽고 공약수와 공배수를 잘못 말한 친구를 찾고, 그 이유를 써 보세요.

 슬기 36과 24의 공약수는 36과 24의 최대공약수의 약수와 같아.	 연수 36과 24의 최대공약수는 36과 24의 최소공배수보다 커.	 지혜 36과 24의 공배수는 36과 24의 최소공배수의 배수와 같아.
--	--	--

잘못 말한 친구 _____

이유 _____