



도형의 배열에서 규칙을 찾아볼까요

공부한 날 월 일

[1~2] 도형의 배열을 보고 물음에 답하세요.

첫째




둘째



셋째

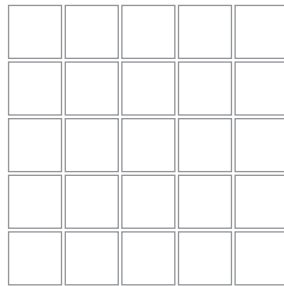


넷째



1 다섯째에 알맞은 도형을 그려 보세요.

다섯째



2 도형의 배열에서 규칙을 찾아보세요.

파란색 도형 규칙

노란색 도형 규칙

[3~4] 도형의 배열을 보고 물음에 답하세요.

첫째



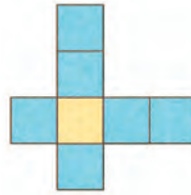
둘째



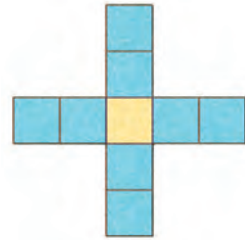
셋째



넷째



다섯째



3 여섯째에 알맞은 도형에서 사각형의 수를 구해 보세요.

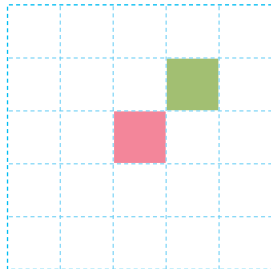
4 도형의 배열에서 규칙을 찾아보세요.

규칙

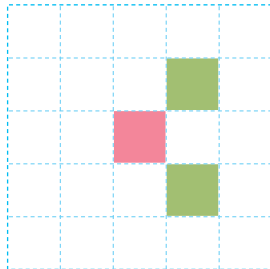


5 규칙에 따라 다섯째에 알맞은 도형을 그리고 규칙을 찾아보세요.

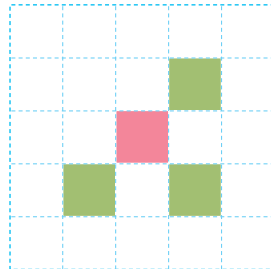
첫째



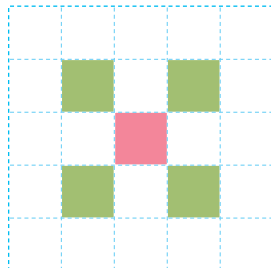
둘째



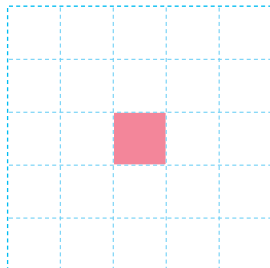
셋째



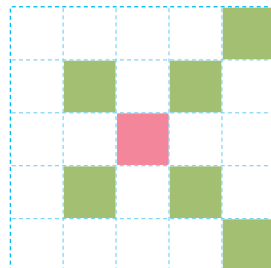
넷째



다섯째



여섯째



규칙
