



얼마나 알고 있나요

1 규칙을 찾아 빈칸에 알맞은 수를 써넣으세요.

30005	30106	30207	30308	30409	30510
40005	40106	40207	40308	40409	40510
50005	50106	50207	50308	50409	
60005	60106	60207	60308		60510
70005	70106	70207		70409	


2 곱셈표를 완성해 보세요.

×		5	6	
100	400	500	600	700
	800	1000		1400
	1200		1800	
400	1600	2000		2800


3 규칙을 찾아 빈칸에 알맞은 도형을 그리고 안에 알맞은 수를 써넣으세요.



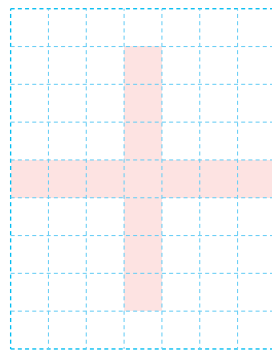
1




5



9



13



4 덧셈식의 규칙에 따라 □ 안에 알맞은 수를 써넣고 규칙을 설명해 보세요.

$$300 + 300 = 600$$

$$\square + 400 = 800$$

$$500 + \square = 1000$$

$$600 + 600 = \square$$

규칙

5 곱셈식의 규칙을 이용하여 나눗셈식을 써 보세요.

$$200 \times 11 = 2200$$

$$300 \times 11 = 3300$$

$$400 \times 11 = 4400$$

$$500 \times 11 = 5500$$

$$\div =$$

$$\div =$$

$$\div =$$

$$\div =$$

6 승강기 버튼에 나타난 수의 배열에서 찾을 수 있는 규칙을 설명해 보세요.



규칙