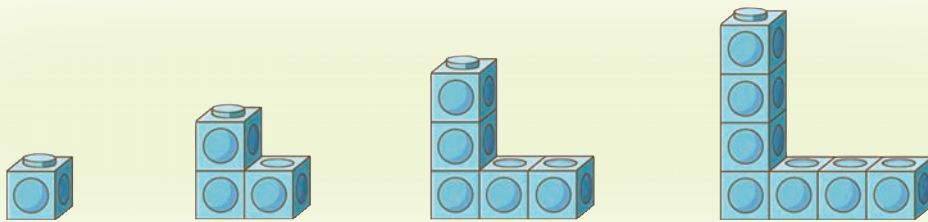





도형의 배열에서 규칙을 찾아볼까요

- 모형으로 만든 모양의 배열에서 규칙을 찾아봅시다.



- 모형을 이용하여 위 모양을 차례대로 만들어 보세요.
- 모양의 배열에서 규칙을 찾아보세요.

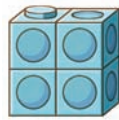


사각형 모양의 배열에서 규칙을 찾고 이야기해 봅시다.

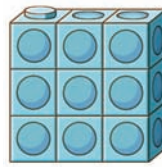
첫째




둘째



셋째



넷째






- 모형의 수를 세어 보고, 규칙을 찾아보세요.

- 사각형 모양의 배열에서 규칙을 찾아 이야기해 보세요.

- 다섯째에 알맞은 모양을 그려 보세요.

다섯째



모양을 그릴 때
모형  을  와 같이
간단히 나타내어도
좋아요.



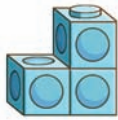


계단 모양의 배열에서 규칙을 찾고 이야기해 봅시다.


첫째




둘째



셋째



넷째






- 모형의 수를 세어 보고, 규칙을 찾아보세요.

- 계단 모양의 배열에서 규칙을 찾아 이야기해 보세요.

- 다섯째에 알맞은 모양을 그려 보세요.

다섯째



모양을 그릴 때
모형  을  와 같이
간단히 나타내어도
좋아요.





도형의 배열에서 규칙을 찾고 이야기해 봅시다.

첫째



둘째




셋째



넷째




다섯째



- 도형의 배열에서 규칙을 찾고 이야기해 보세요.

- 여섯째에 알맞은 도형을 그려 보세요.

여섯째



6

규칙 찾기