

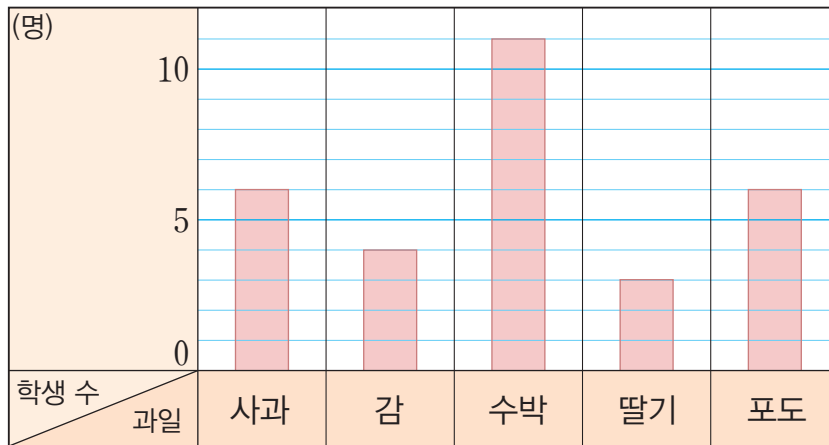
막대그래프를 알아볼까요

공부한 날 월 일

1 조사한 자료를 막대 모양으로 나타낸 그래프를 무엇이라고 하나요?

[2~4] 현성이네 반 학생들이 좋아하는 과일을 조사하여 나타낸 막대그래프입니다. 물음에 답하세요.

좋아하는 과일별 학생 수



2 가로와 세로는 각각 무엇을 나타내나요?

3 막대의 길이는 무엇을 나타내나요?

4 세로 눈금 한 칸은 몇 명을 나타내나요?

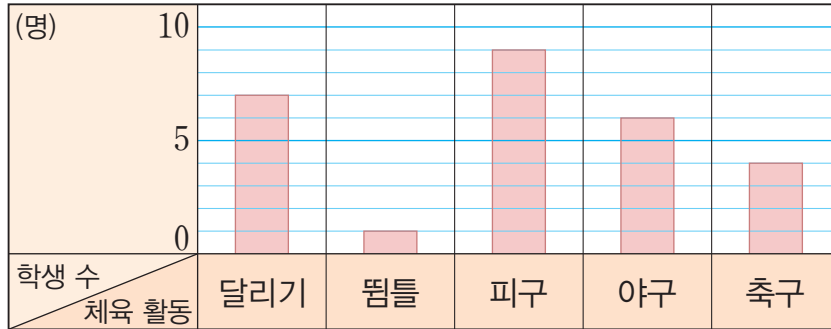
5

학생들이 좋아하는 체육 활동을 조사하여 나타낸 표와 막대그래프입니다. 물음에 답하세요.

좋아하는 체육 활동별 학생 수

체육 활동	달리기	뽀름	피구	야구	축구	합계
학생 수(명)	7	1	9	6	4	27

좋아하는 체육 활동별 학생 수

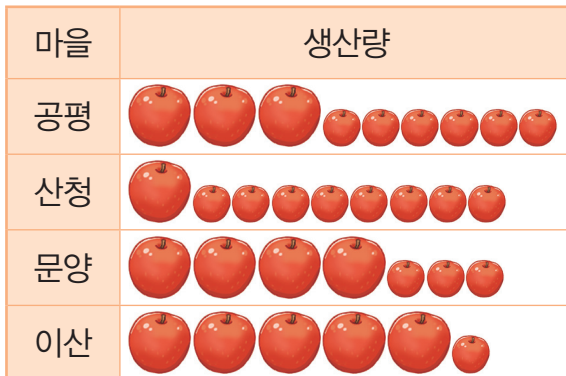


- 전체 학생 수를 알아보기에 어느 것이 더 편리한가요?
- 학생들이 가장 좋아하는 체육 활동을 한눈에 알아보기에 어느 것이 더 편리한가요?

6

마을별 사과 생산량을 조사하여 나타낸 그래프입니다. 그림그래프와 막대그래프의 같은 점과 다른 점을 써 보세요.

마을별 사과 생산량



10상자 1상자

마을별 사과 생산량

