


## 막대그래프를 어떻게 그릴까요

- 수일이네 반 학생들이 좋아하는 올림픽 경기 종목을 조사하여 나타낸 표입니다. 표를 보고 막대그래프로 나타내는 방법을 알아봅시다.

좋아하는 경기 종목별 학생 수

경기 종목						합계
	레슬링	유도	사격	태권도	양궁	
학생 수(명)	2	2	4	10	8	26

- 막대그래프의 가로와 세로에는 각각 무엇을 나타내어야 하나요?
- 세로 눈금 한 칸은 몇 명을 나타내어야 하나요?
- ㉠, ㉡, ㉢에는 각각 무엇을 써야 하나요?
- 막대그래프를 완성해 보세요.



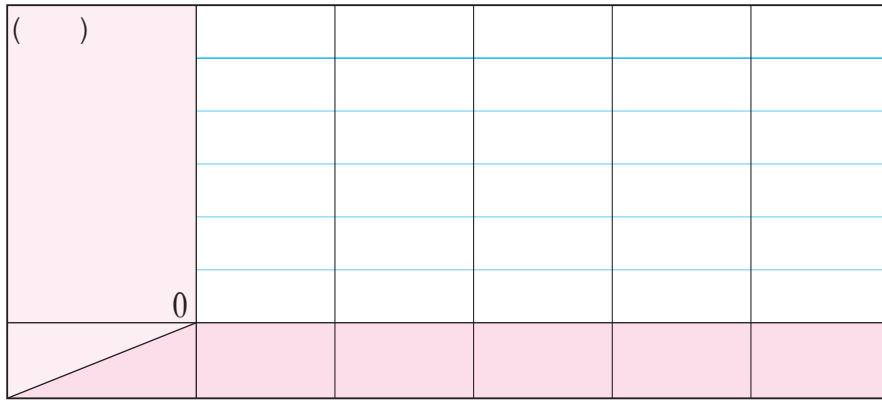
제목은  
무엇이  
좋을까요?



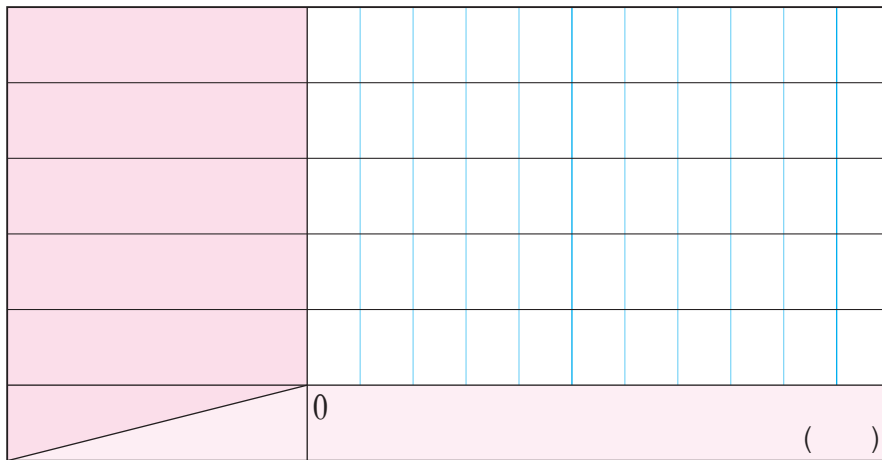


표를 보고 막대그래프를 여러 가지 방법으로 나타내어 봅시다.

- 그래프의 세로 눈금 한 칸을  명으로 하여 나타내어 보세요.



- 그래프의 가로와 세로를 바꾸어 막대를 가로로 나타내어 보세요.



막대그래프 그리는 방법을 이야기해 봅시다.



먼저 가로와 세로에  
무슨 내용을  
넣어야 할까?



그다음에는?