

막대그래프에서 무엇을 알 수 있을까요

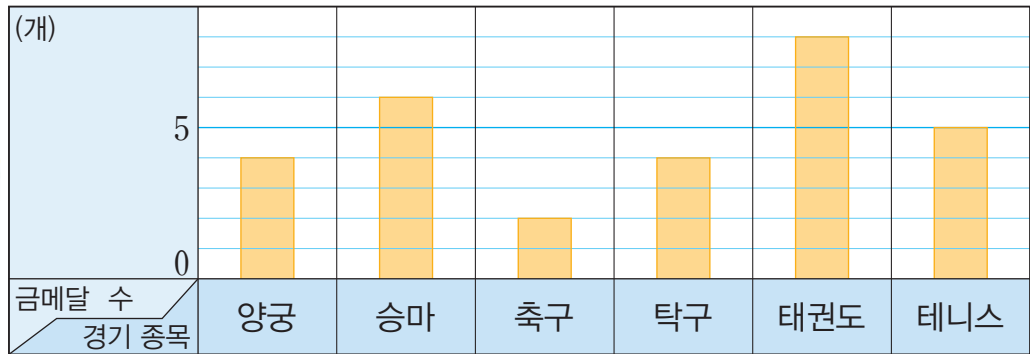
슬기와 도영이가 올림픽 일부 경기 종목의 금메달 수를 조사하여 막대그래프로 나타내었습니다. 두 막대그래프를 보고 알 수 있는 내용을 이야기해 봅시다.



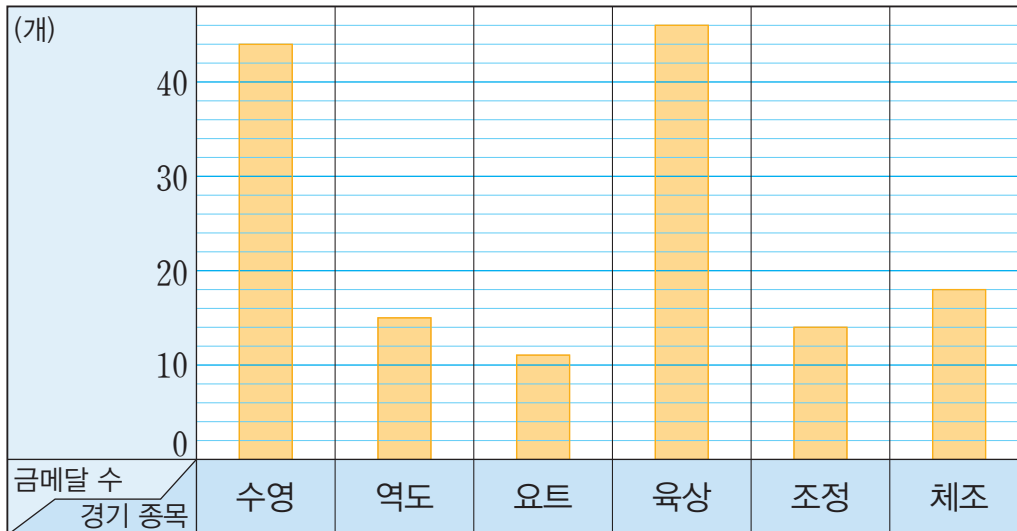
6개 경기 종목의 금메달 수를 조사했어.



올림픽 경기 종목별 금메달 수




올림픽 경기 종목별 금메달 수




내 막대그래프에서는 육상 종목의 금메달 수가 가장 많아.



 슬기와 도영이가 나타낸 막대그래프의 내용을 알아봅시다.

- 슬기의 막대그래프에서 금메달 수가 가장 많은 경기 종목은 무엇인가요?
- 도영이의 막대그래프에서 금메달 수가 가장 적은 경기 종목은 무엇인가요?
- 각각의 막대그래프에서 세로 눈금 한 칸은 금메달 몇 개를 나타내나요?
- 도영이의 막대그래프에서 금메달 수가 조정보다 많고 육상보다 적은 경기 종목을 모두 이야기해 보세요.

 두 막대그래프에서 알 수 있는 내용으로 다양한 질문을 만들어 보고 친구들과 이야기해 봅시다.

태권도와 요트 중 어느 종목의 금메달 수가 더 많을까?



눈금의 크기도 살펴봐야 하지 않을까?

