






무늬를 꾸며 볼까요


공부한 날 월 일


- 1  모양으로 밑기를 이용하여 규칙적인 무늬를 만들어 보세요. **준비물 3**




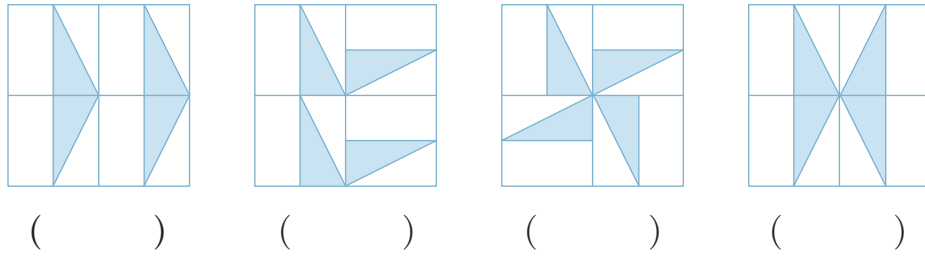
- 2  모양으로 뒤집기를 이용하여 규칙적인 무늬를 만들어 보세요. **준비물 3**




- 3  모양으로 돌리기를 이용하여 규칙적인 무늬를 만들어 보세요. **준비물 3**



4 다음 중  모양으로 뒤집기를 이용하여 만든 무늬를 모두 찾아 ○표 하세요.



5 규칙에 따라 무늬를 만들었습니다. 빈칸을 채워 무늬를 완성해 보세요. **준비물 3**



깜짝문제

○ 안에 >, =, <를 알맞게 써넣으세요.

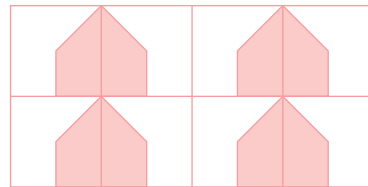
$$\frac{9}{4} \bigcirc 1\frac{3}{4}$$


$$3\frac{4}{9} \bigcirc \frac{31}{9}$$

$$2\frac{1}{5} \bigcirc \frac{12}{5}$$

6 **보기**의 낱말을 사용하여 아래의 무늬를 만든 규칙을 설명해 보세요.

보기
 밑기 뒤집기
 오른쪽 아래쪽



 모양을 _____