


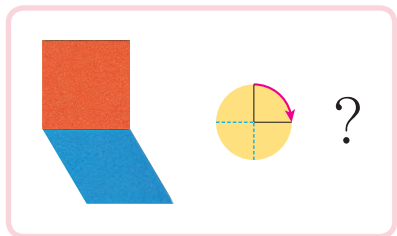


# 평면도형을 돌려 볼까요


공부한 날      월      일

1 모양 조각을 시계 방향으로  $90^\circ$ 만큼 돌렸습니다. 알맞은 것을 찾아 ○표 하세요.

준비물 2



(            )



(            )

2 도형을 시계 방향으로 주어진 각도만큼 돌렸을 때의 도형을 각각 그려 보세요.

준비물 2

