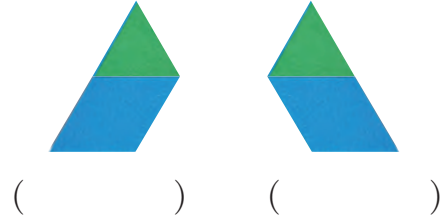
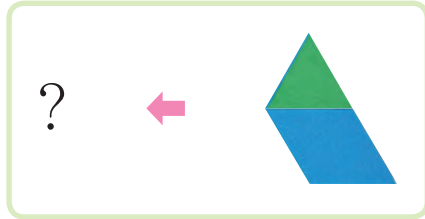




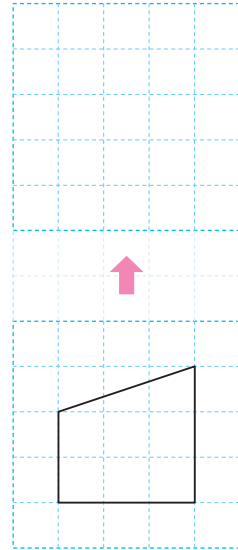
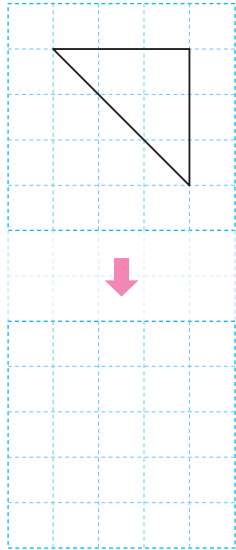
평면도형을 밀어 볼까요

공부한 날 월 일

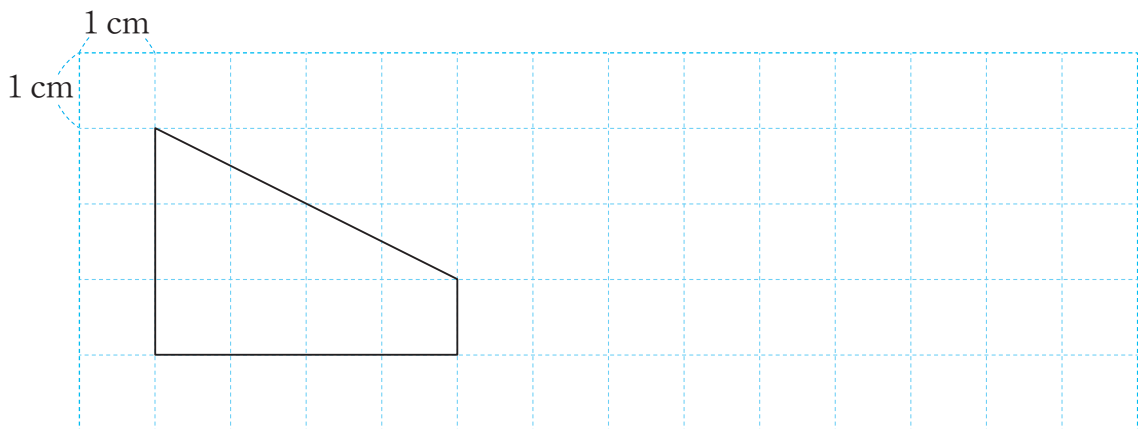
- 1 모양 조각을 왼쪽으로 밀었습니다. 알맞은 것을 찾아 ○표 하세요. 준비물 1



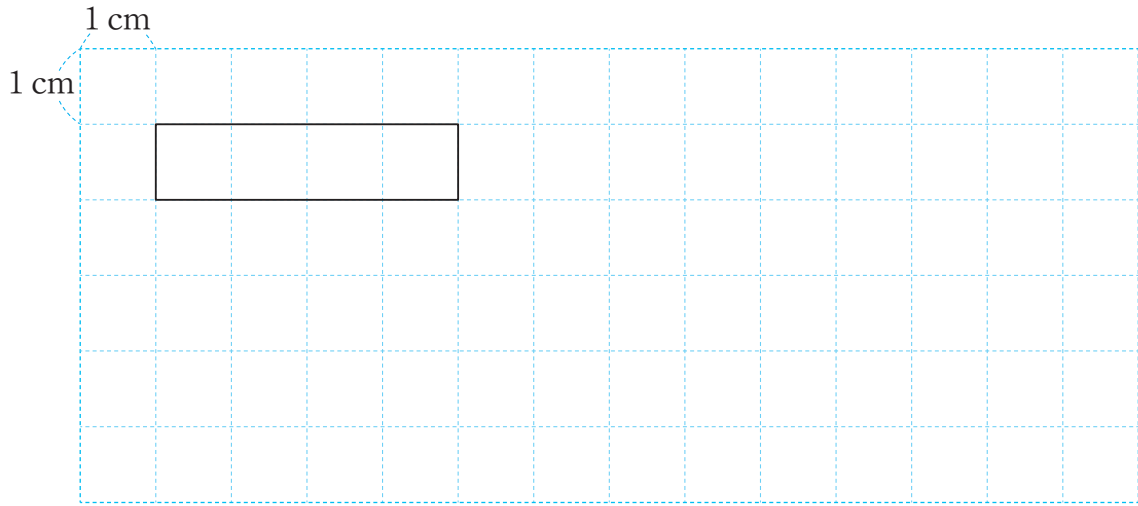
- 2 도형을 주어진 방향으로 밀었을 때의 도형을 그려 보세요. 준비물 1



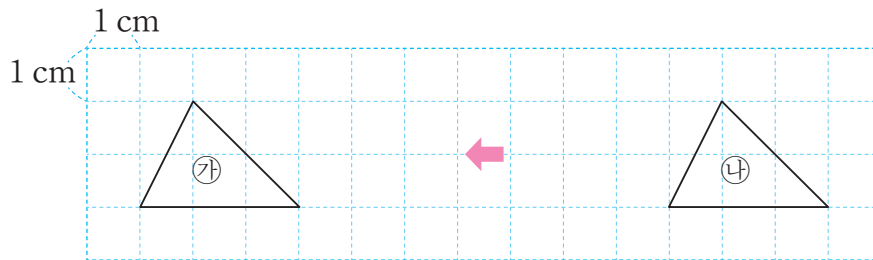
- 3 도형을 오른쪽으로 7 cm 밀었을 때의 도형을 그려 보세요.



4 도형을 오른쪽으로 8 cm 밀고 아래쪽으로 3 cm 밀었을 때의 도형을 그려 보세요.



5 도형의 이동 방법을 설명해 보세요.



㉓ 도형은 ㉔ 도형을 쪽으로 cm 밀어서 이동한 도형입니다.

6 규칙에 따라 정사각형을 밀어서 벽지 무늬를 완성해 보세요.

