



각도가 얼마쯤 될까요

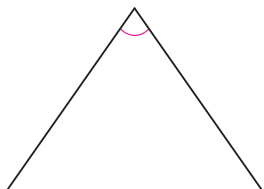
공부한 날 월 일

1 슬기가 두 팔을 벌린 각도를 어림하고, 각도기로 재어 확인해 보세요.

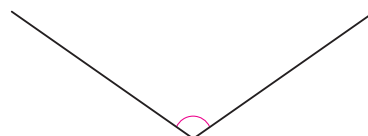


어림한 각도 약 °
 잦 각도 °

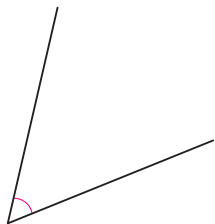
2 각도를 어림하고, 각도기로 재어 확인해 보세요.



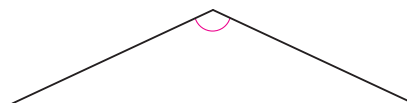
어림한 각도 약 °
 잦 각도 °



어림한 각도 약 °
 잦 각도 °



어림한 각도 약 °
 잦 각도 °



어림한 각도 약 °
 잦 각도 °

3 의자의 각도를 어림하고, 각도기로 재어 확인해 보세요.

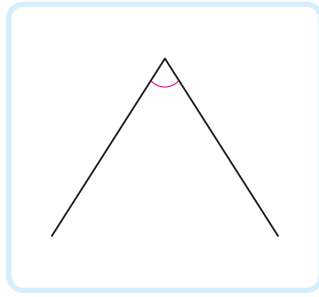


어림한 각도 약 °
 잦 각도 °

4 수일리와 도영이가 각도를 어림하였습니다. 누구의 어림이 더 정확한지 쓰고, 각도기로 재어 확인해 보세요.

내 생각에는 50°쯤 되는 것 같아.

수일



음, 내 생각에는 70°쯤 되는 것 같아.

도영



어림을 더 정확히 한 사람 ()

잦 각도 °

5 자신이 생각한 각도의 각을 자만 이용하여 그리고, 각도기로 재어 확인해 보세요.



생각한 각도 약 °
 잦 각도 °