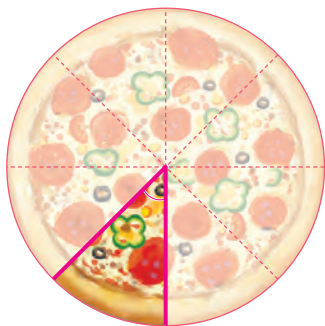




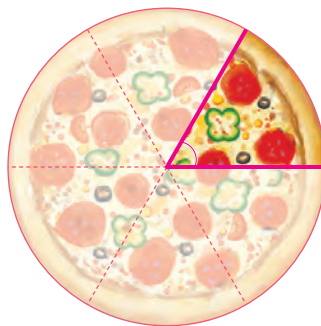
어느 각이 더 클까요

공부한 날 월 일

1 피자 조각이 2개 있습니다. 두 피자 조각의 각 중에서 더 큰 각을 찾아 ○표 하세요.

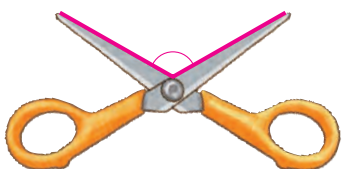


()

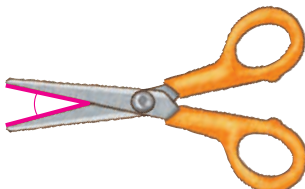


()


2 가장 크게 벌어진 가위에 ○표, 가장 작게 벌어진 가위에 △표 하세요.



()

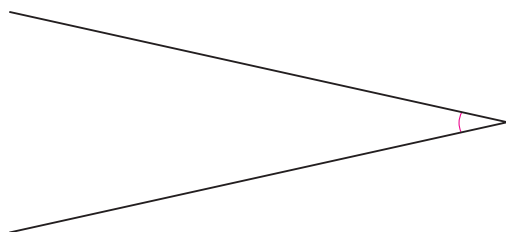


()

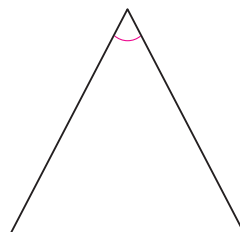


()

3 두 각 중에서 더 작은 각을 찾아 ○표 하세요.

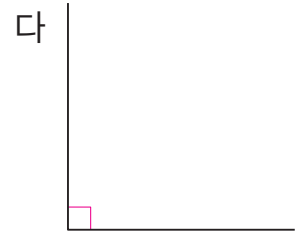
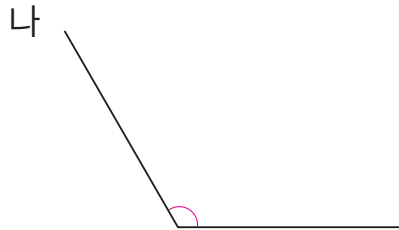
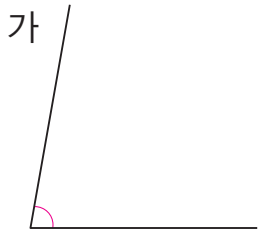


()



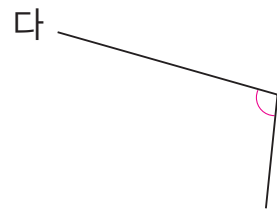
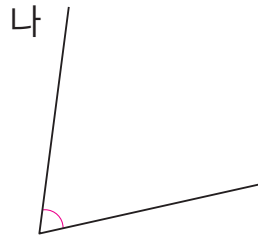
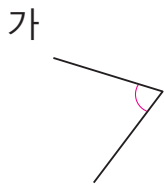
()

4 각의 크기가 큰 순서대로 써 보세요.


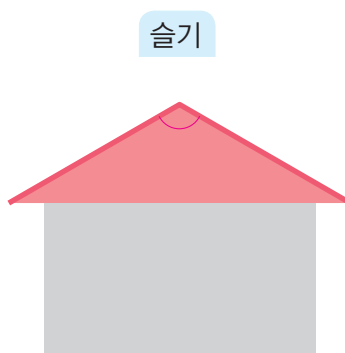


()

5 세 각의 크기를 비교해 보세요.



6 지혜, 슬기, 수일은 뾰족한 지붕이 있는 집을 그렸습니다. 지붕 위쪽의 각의 크기를 바르게 비교한 사람은 누구인지 써 보세요.



수일이 그린 지붕 위쪽의 각의 크기가 가장 커.



세 지붕 위쪽의 각의 크기는 모두 같아.



지혜가 그린 지붕 위쪽의 각의 크기가 가장 작아.

()