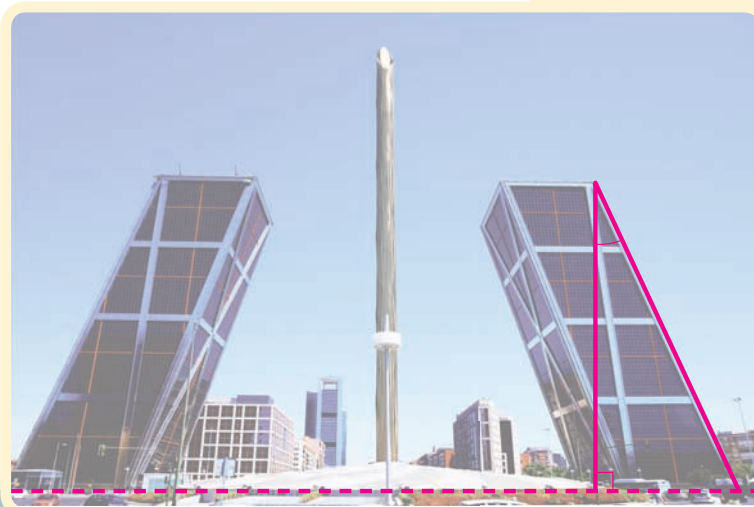





# 건축물은 얼마나 기울어져 있나요

**1** 건축물을 찍은 사진입니다. 사진에서 기울어진 각도를 재어 봅시다.

유럽의 문, 스페인



피사의 사탑, 이탈리아




건축물이 왜  
기울어져 있을까?



- 건축물의 기울어진 각도를 어떻게 재면 좋을지 짝과 함께 이야기해 보세요.
- 건축물의 기울어진 각도를 재어 보세요.



- 2** 각도기와 자를 이용하여 기울어진 건축물을 그리고, 기울어진 각도를 나타내어 봅시다.



- 자신이 그린 기울어진 건축물을 친구들에게 소개해 보세요.