




사각형의 네 각의 크기의 합은 얼마일까요

- 야구 경기장의 전광판에서 보이는 사각형의 네 각의 크기의 합은 얼마인지 알아봅시다.



- 사각형의 네 각의 크기의 합을 알아봅시다.


- 모든 친구들과 서로 다른 사각형을 그려 보세요.



- 사각형의 네 각의 크기를 각도기로 각각 재어 보세요.
- 사각형의 네 각의 크기의 합을 구해 보세요.



자신이 그린 사각형을 이용하여 네 각의 크기의 합을 알아봅시다.

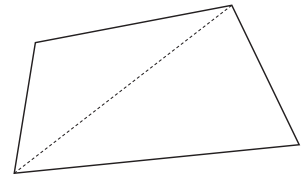


● 나와 모둠 친구들이 그린 사각형의 네 각의 크기의 합을 비교해 보세요.



다른 방법으로 사각형의 네 각의 크기의 합을 알아봅시다.

● 삼각형의 세 각의 크기의 합을 이용하여 사각형의 네 각의 크기의 합을 구해 보세요.



사각형의 네 각의 크기의 합은 360° 입니다.



안에 알맞은 수를 써넣어 봅시다.

