



각의 크기는 얼마일까요

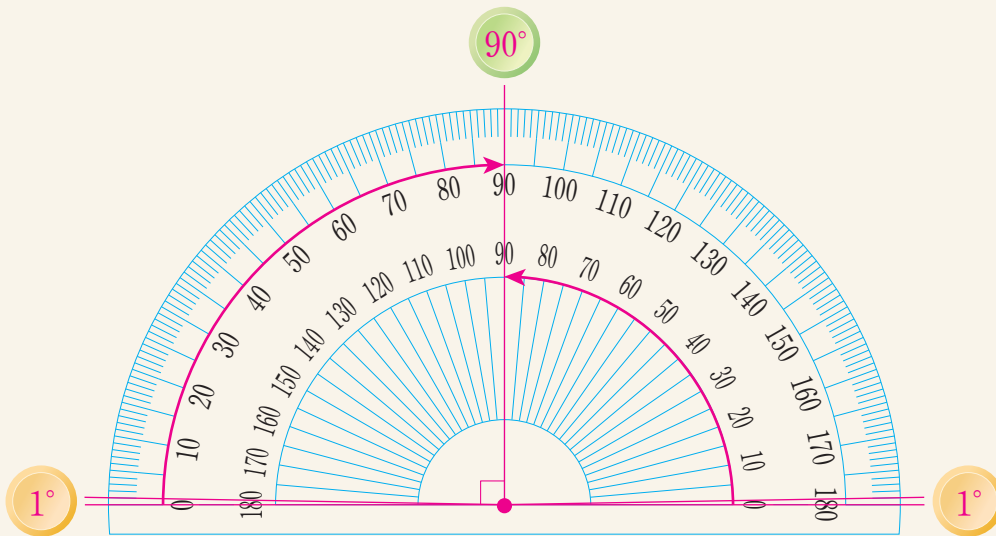
- 야구 선수의 팔과 야구 방망이가 벌어진 정도를 어떻게 말할 수 있을지 알아보시다.



각의 크기를 **각도**라고 합니다.

직각을 똑같이 90으로 나눈 것 중 하나를 **1도**라 하고, 1° 라고 씁니다.

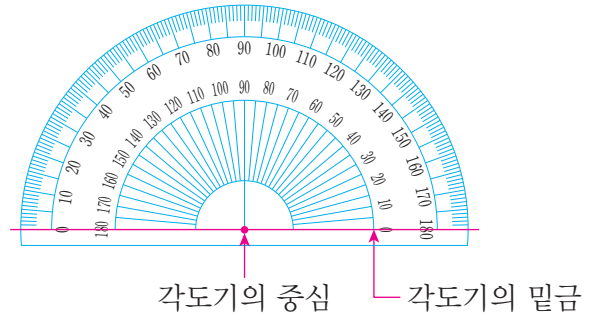
직각의 크기는 90° 입니다.



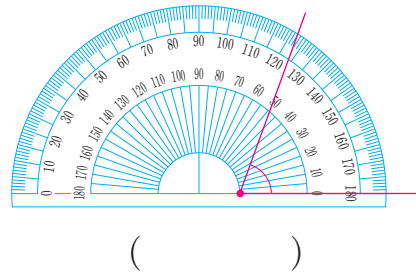
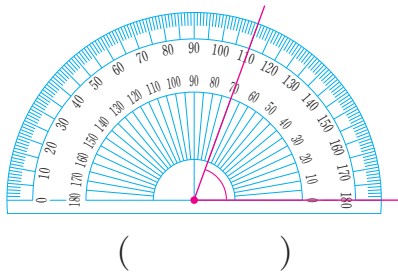


각도를 켤 때는 각도기를 이용합니다. 각도기를 이용하는 방법을 알아보시다.

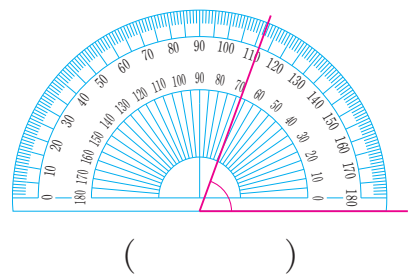
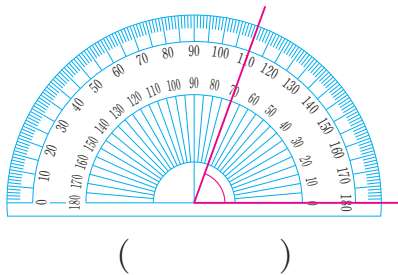
- 각도기의 선과 숫자를 살펴보세요.



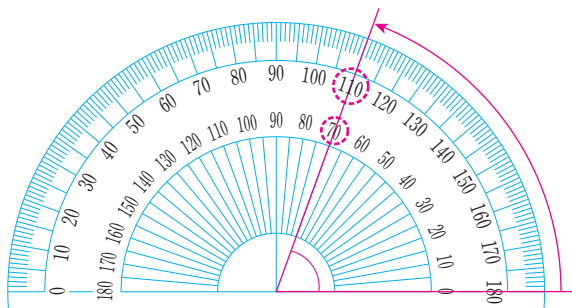
- 각도기의 중심을 바르게 맞춘 것에 ○표 하세요.



- 각도기의 밑금을 바르게 맞춘 것에 ○표 하세요.

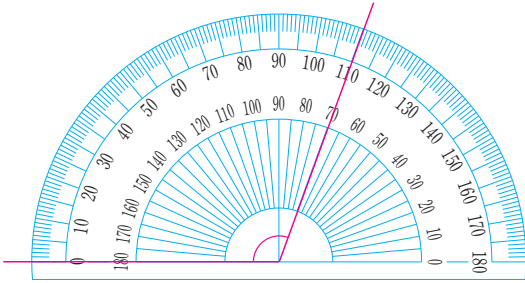


- 각도기의 눈금 70과 110 중 어느 것을 읽어야 할까요? 각도를 읽어 보세요.

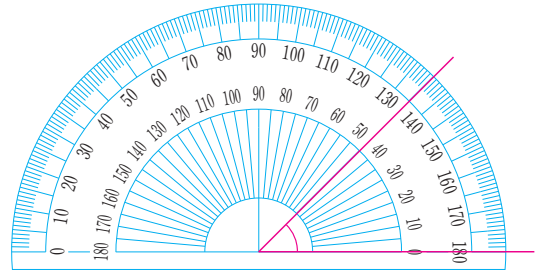




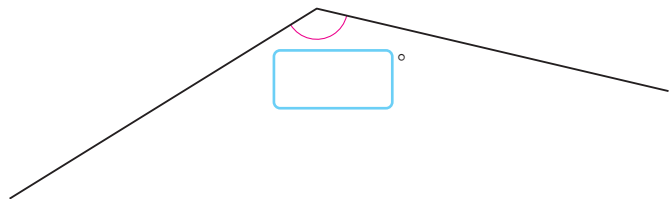
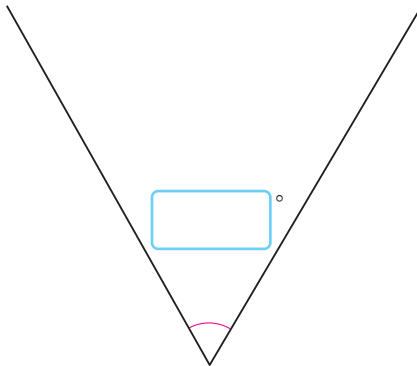
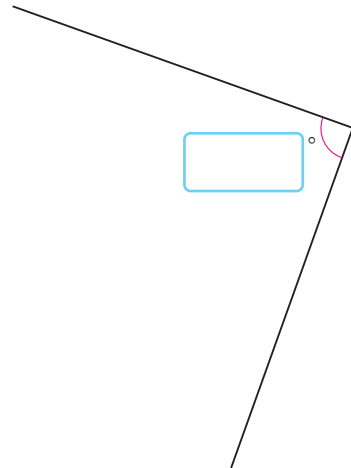
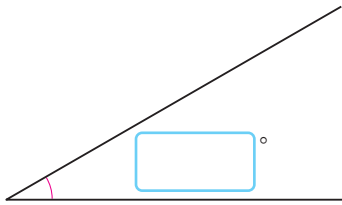
각도기를 이용하여 각도를 재어 봅시다.




°



°



 각도기를 이용하여 우리 주변에서 볼 수 있는 각도를 재어 봅시다.

