

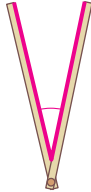


어느 각이 더 클까요

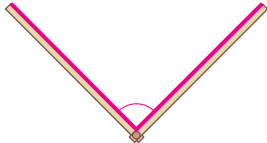
응원 부채가 벌어진 정도를 비교해 봅시다.



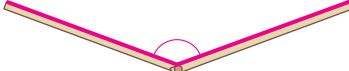
세 응원 부채의 각 중에서 어느 각이 가장 클까요?



가



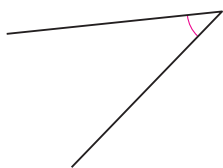
나



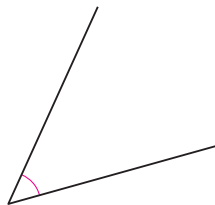
다

각의 크기를 비교해 봅시다. **준비물 3**

어느 각이 더 작다고 생각하나요?



가

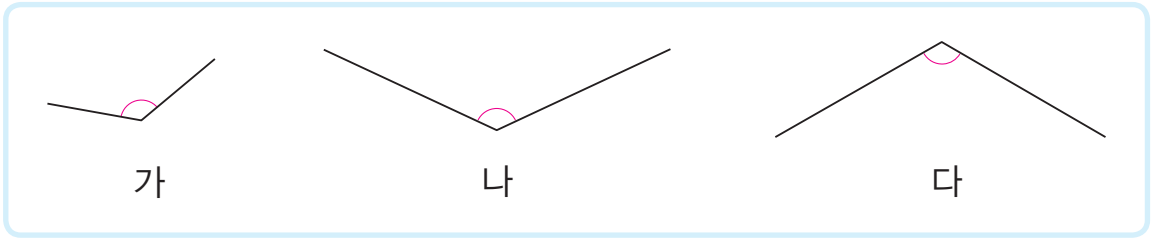


나

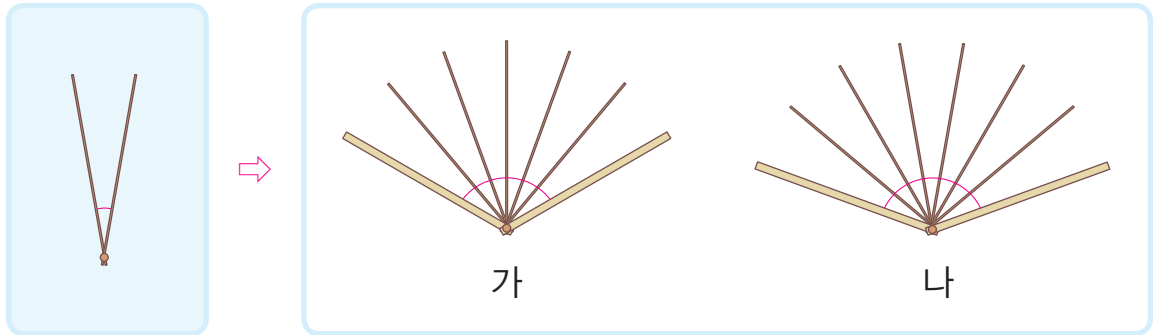
투명 종이를 이용하여
비교해 볼까요?



- 투명 종이를 이용하여 세 각의 크기를 비교해 보세요.



- ☘ 부채의 부챗살이 이루는 각의 크기는 일정합니다. 부챗살을 이용하여 부채가 벌어진 정도를 비교해 봅시다.



- ☘ 우리 주변에서 볼 수 있는 여러 각의 크기를 비교하여 이야기해 봅시다.

