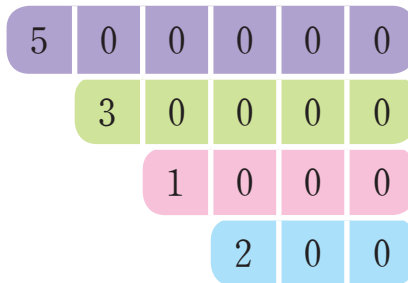
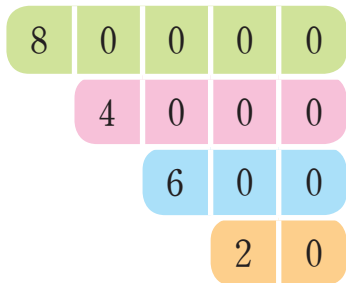




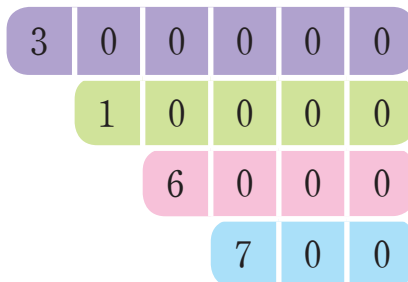
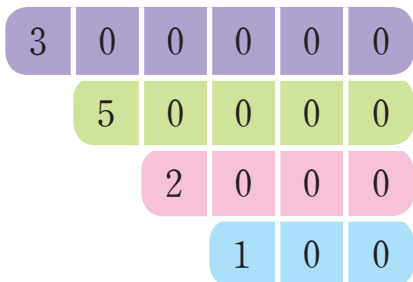
수의 크기를 비교해 볼까요

공부한 날 월 일

1 두 수의 크기를 비교하여 ○ 안에 $>$, $=$, $<$ 를 알맞게 써넣으세요.









2 두 수의 크기를 비교하여 ○ 안에 $>$, $=$, $<$ 를 알맞게 써넣으세요.

53762 ○ 129864

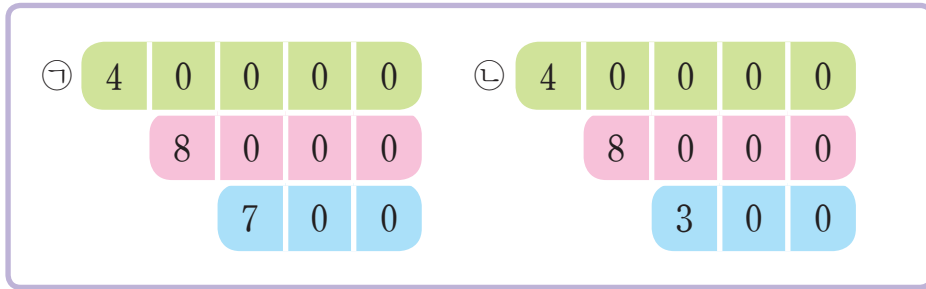
35982145 ○ 35762149

3 두 수의 크기를 비교하여 ○ 안에 $>$, $=$, $<$ 를 알맞게 써넣으세요.

350억 8213만 ○ 3512억 9321만

625조 7000억 ○ 623조 3000억

4 ㉠과 ㉡이 나타내는 수를 수직선에 나타내고 크기를 비교해 보세요.



은 보다 (큼니다, 작습니다).

5 인구가 적은 나라부터 순서대로 나라의 이름을 써 보세요.



중국

십삼억 칠천구백삼십만 명



대한민국

5118만 명



캐나다

35620000명

(출처: 월드 팩트북, 미국 중앙정보국, 2017.)

(, ,)

6 설명에 알맞은 수를 써 보세요.

- 수 카드 , , , , 를 모두 한 번씩만 사용하여 만든 수입니다.
- 43000보다 큰 수입니다.
- 43200보다 작은 수입니다.
- 일의 자리 수는 짝수입니다.

()