



1000이 10개인 수를 알아볼까요

공부한 날 월 일

1 그림을 보고 안에 알맞은 수를 써넣으세요.

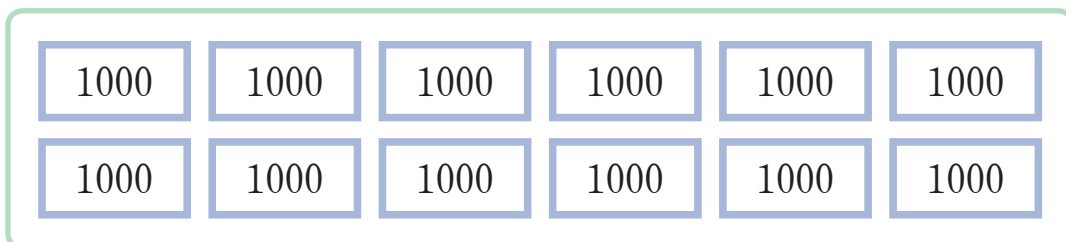


- 10000은 9000보다 만큼 더 큰 수입니다.
- 10000은 1000이 개인 수입니다.

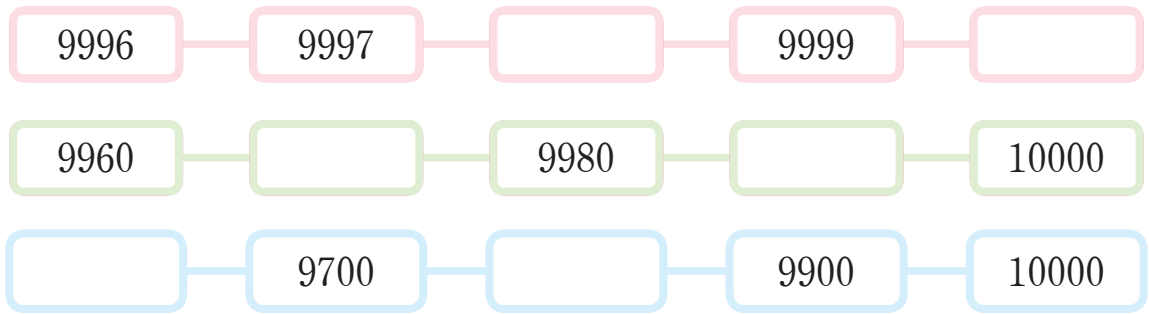
2 안에 알맞은 수를 써넣으세요.

- 9999보다 만큼 더 큰 수는 10000입니다.
- 9990보다 만큼 더 큰 수는 10000입니다.
- 9900보다 만큼 더 큰 수는 10000입니다.

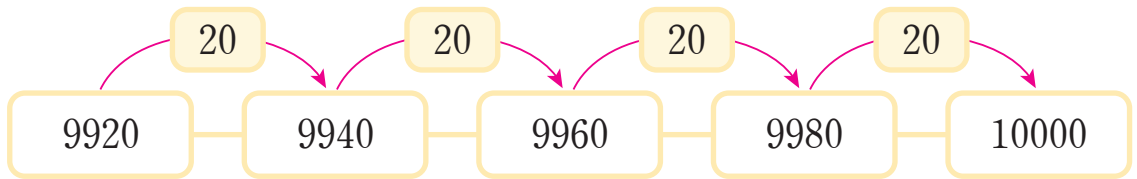
3 10000만큼 색칠해 보세요.



4 규칙에 따라 빈칸에 알맞은 수를 써넣으세요.




5 그림을 보고 안에 알맞은 수를 써넣으세요.





- 9960보다 만큼 더 큰 수는 10000입니다.
- 9940은 10000보다 만큼 더 작은 수입니다.


6 두 친구의 대화를 읽고 안에 알맞은 수를 써넣으세요.

< 도영, 슬기 > 🔍 ☰

 나는 3000원을 가지고 있어.

 나는 5000원을 가지고 있어.

 우리가 가지고 있는 돈에 얼마를 더하면 10000원이 될까?

 원이 더 있으면 10000원이 돼.