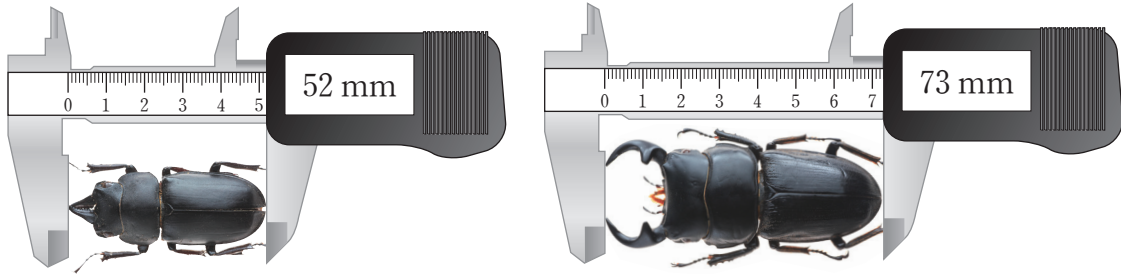


## 소수를 알아볼까요(2)

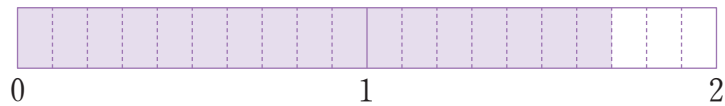
공부한 날 월 일

1 왕사슴벌레의 길이를 소수로 나타내어 보세요.



$$52 \text{ mm} = \square \text{ cm}$$

$$73 \text{ mm} = \square \text{ cm}$$

2 그림을 보고  안에 알맞게 써넣으세요.

색칠한 부분을 소수로 나타내면  (이)라 쓰고

(이)라고 읽습니다.



— 부분을 소수로 나타내면  (이)라 쓰고

(이)라고 읽습니다.

3  안에 알맞은 소수를 써넣으세요.

$$1 \text{ cm } 9 \text{ mm} = \square \text{ cm}$$

$$2 \text{ cm } 2 \text{ mm} = \square \text{ cm}$$

$$31 \text{ mm} = \square \text{ cm}$$

$$38 \text{ mm} = \square \text{ cm}$$


4  안에 알맞은 수를 써넣으세요.

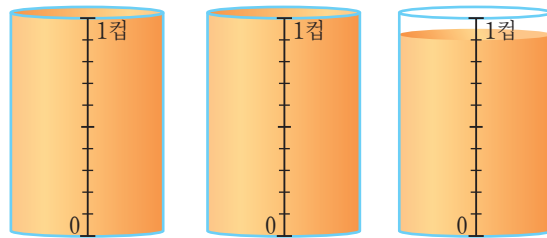
2.6은 0.1이  개입니다.

3.5는  이 35개입니다.

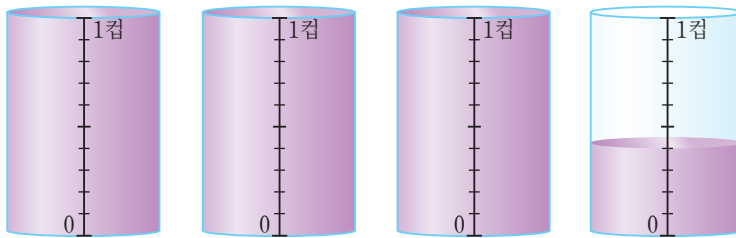
0.1이 61개이면  입니다.

0.1이  개이면 9.8입니다.

5  주스가 몇 컵인지 소수로 나타내어 보세요.




컵



컵

6

분수와 소수

6   안에 알맞은 소수를 써넣으세요.

