



# 소수를 알아볼까요(1)

공부한 날      월      일

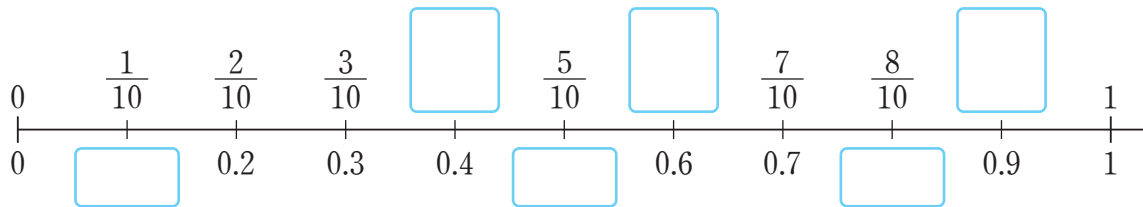
1 그림을 보고 □ 안에 알맞게 써넣으세요.



색칠한 부분을 분수로 나타내면  $\frac{\square}{\square}$ 입니다. 소수로 나타내면

□(이)라 쓰고 □(이)라고 읽습니다.


2 □ 안에 알맞은 수를 써넣으세요.



3 색칠한 부분을 분수와 소수로 나타내어 보세요.



4 같은 것끼리 이어 보세요.



5 □ 안에 알맞은 수를 써넣으세요.

0.4는 0.1이 □ 개입니다.

0.7은 □ 이 7개입니다.

0.1이 6개이면 □ 입니다.

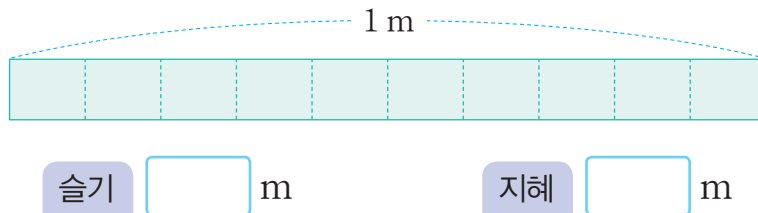
0.1이 □ 개이면 0.9입니다.

$\frac{1}{10}$ 이 □ 개이면 0.5입니다.

$\frac{\square}{\square}$ 이 8개이면 0.8입니다.

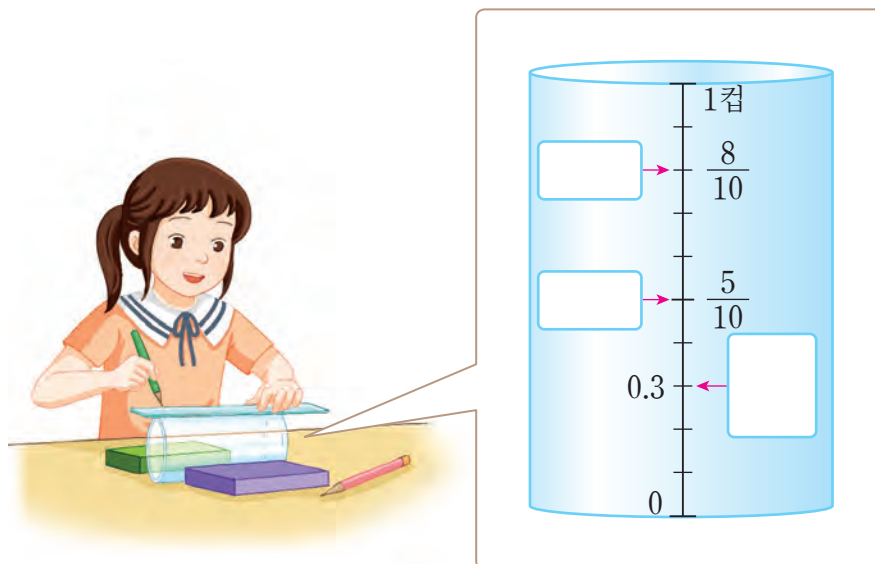
6

끈 1 m를 똑같이 10조각으로 나누어 그중 슬기가 3조각, 지혜가 7조각을 사용했습니다. 슬기와 지혜가 사용한 끈의 길이를 소수로 나타내어 보세요.



7

도영이가 계량컵을 만들고 있습니다. □ 안에 알맞은 분수 또는 소수를 써넣으세요.



6

분수와 소수