

단위분수의 크기를 비교해 볼까요

공부한 날 월 일

1 주어진 분수만큼 색칠하고, 어느 분수가 더 큰지 알아보세요.

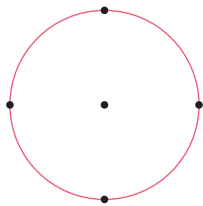


$\frac{1}{3}$ 은 $\frac{1}{4}$ 보다 더 (큼니다 , 작습니다).

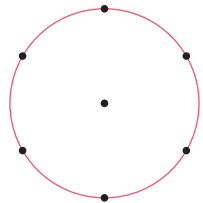
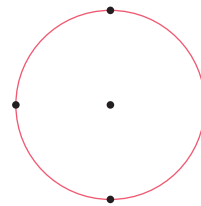
2 안에 알맞은 말을 써넣으세요.

분수 중에서 $\frac{1}{2}$, $\frac{1}{3}$, $\frac{1}{4}$ ……과 같이 분자가 1인 분수를 (이)라고 합니다.

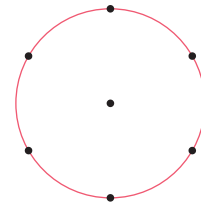
3 똑같이 나누어 주어진 분수만큼 색칠하고, ○ 안에 >, =, <를 알맞게 써넣으세요.



$\frac{1}{2}$ ○ $\frac{1}{4}$



$\frac{1}{6}$ ○ $\frac{1}{3}$



4 두 분수의 크기를 비교하여 ○ 안에 >, =, <를 알맞게 써넣으세요.

$\frac{1}{2}$ ○ $\frac{1}{6}$

$\frac{1}{5}$ ○ $\frac{1}{3}$

$\frac{1}{9}$ ○ $\frac{1}{7}$

