


분모가 같은 분수의 크기를 비교해 볼까요

공부한 날 월 일

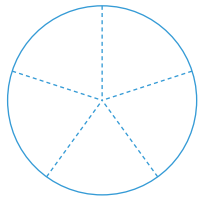
1 주어진 분수만큼 색칠하고, 어느 분수가 더 큰지 알아보세요.



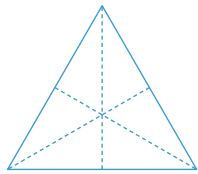
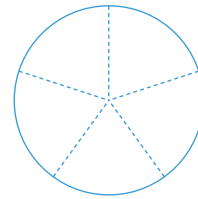
$\frac{3}{6}$ 은 $\frac{1}{6}$ 이 개, $\frac{2}{6}$ 은 $\frac{1}{6}$ 이 개이므로

$\frac{3}{6}$ 은 $\frac{2}{6}$ 보다 더 (큼니다 , 작습니다).

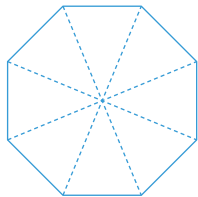
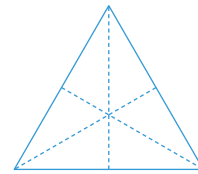
2 주어진 분수만큼 색칠하고, ○ 안에 >, =, <를 알맞게 써넣으세요.



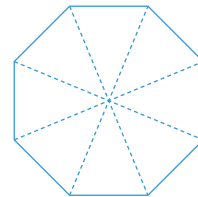
$$\frac{2}{5} \bigcirc \frac{4}{5}$$



$$\frac{5}{6} \bigcirc \frac{3}{6}$$



$$\frac{7}{8} \bigcirc \frac{6}{8}$$



3 두 분수의 크기를 비교하여 ○ 안에 >, =, <를 알맞게 써넣으세요.

$$\frac{3}{4} \bigcirc \frac{2}{4}$$

$$\frac{4}{7} \bigcirc \frac{6}{7}$$

$$\frac{2}{9} \bigcirc \frac{8}{9}$$

4 가장 큰 분수에 ○표, 가장 작은 분수에 △표 하세요.

$$\frac{8}{15} \quad \frac{14}{15} \quad \frac{11}{15} \quad \frac{3}{15}$$



깜짝문제

몫의 크기를 비교하여 ○ 안에 >, =, <를 알맞게 써넣으세요.

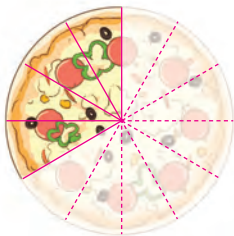
$$35 \div 7 \quad \bigcirc \quad 30 \div 5$$

5 분모가 9인 분수 중에서 $\frac{4}{9}$ 보다 크고 $\frac{8}{9}$ 보다 작은 분수를 모두 찾아 ○표 하세요.

$$\frac{8}{9} \quad \frac{2}{9} \quad \frac{7}{9} \quad \frac{3}{9} \quad \frac{6}{9}$$

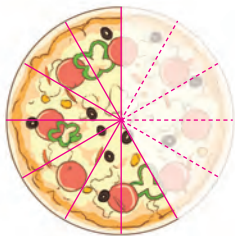
6 각 모듬이 먹은 피자의 양을 분수로 나타내고, 많이 먹은 모듬부터 차례대로 써 보세요.

1모듬



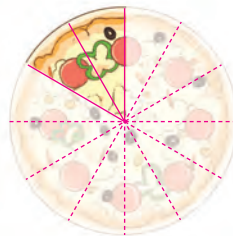
$$\frac{8}{12}$$

2모듬



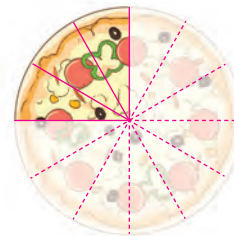
$$\square$$

3모듬



$$\square$$

4모듬



$$\square$$

\square 모듬, \square 모듬, \square 모듬, \square 모듬

6

분수와 소수