

# 분수를 알아볼까요(1)

공부한 날 월 일

[1~4] □ 안에 알맞은 수를 써넣으세요.

1



부분  은 전체  를 똑같이 □ (으)로 나눈 것

중의 □ 이므로  $\frac{\square}{\square}$  입니다.


2



부분  은 전체  를 똑같이 □ (으)로

나눈 것 중의 □ 이므로  $\frac{\square}{\square}$  입니다.

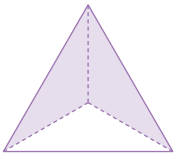
3



부분  은 전체  를 똑같이 □ (으)로

나눈 것 중의 □ 이므로  $\frac{\square}{\square}$  입니다.

4



부분  은 전체  를 똑같이 □ (으)로

나눈 것 중의 □ 이므로  $\frac{\square}{\square}$  입니다.

5 □ 안에 알맞은 수를 써넣으세요.



모리셔스 국기에서 노란색 부분은  
전체의  $\frac{\square}{\square}$ 입니다.



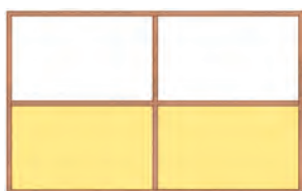
오스트리아 국기에서 빨간색 부분은  
전체의  $\frac{\square}{\square}$ 입니다.

6 분수에 맞게 색칠한 것을 모두 찾아 ( ) 안에 ○표 하세요.

$\frac{2}{5}$	 ( )	 ( )	 ( )
---------------	---------	---------	---------

$\frac{5}{6}$	 ( )	 ( )	 ( )
---------------	---------	---------	---------

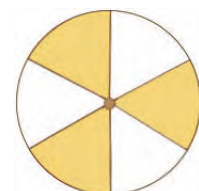
7 노란색 부분을 분수로 쓰고 읽어 보세요.



$\frac{\square}{\square}$



$\frac{\square}{\square}$



$\frac{\square}{\square}$