




똑같이 나누어 볼까요

공부한 날 월 일

1 똑같이 나누어진 피자를 모두 찾아보세요.




2 크기가 같은 조각이 몇 개 있는지 알아보세요.




조각



조각



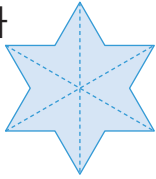
조각



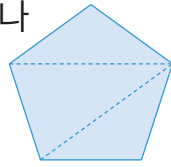
조각

3 똑같이 나누어진 도형을 모두 찾아보세요.

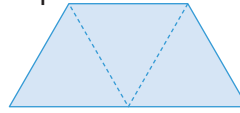
가



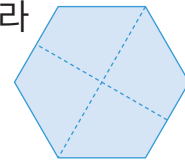
나



다

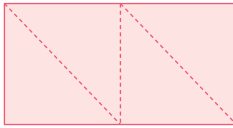


라



4 누구의 설명이 맞다고 생각하나요? 그 이유를 써 보세요.

도화지를 똑같이
넛으로 나누었어.



도영



도화지를 똑같이
넛으로 나누었어.



슬기

답 _____

이유 _____

5 여러 가지 방법으로 똑같이 여섯으로 나누어 보세요.

