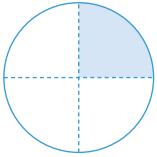




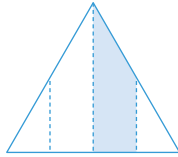
얼마나 알고 있나요

1 $\frac{1}{4}$ 만큼 색칠한 것을 모두 찾아 ○표 하세요.

가



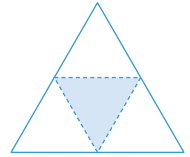
나



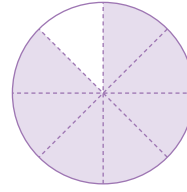
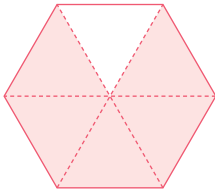
다



라



2 색칠한 부분을 분수로 나타내어 보세요.



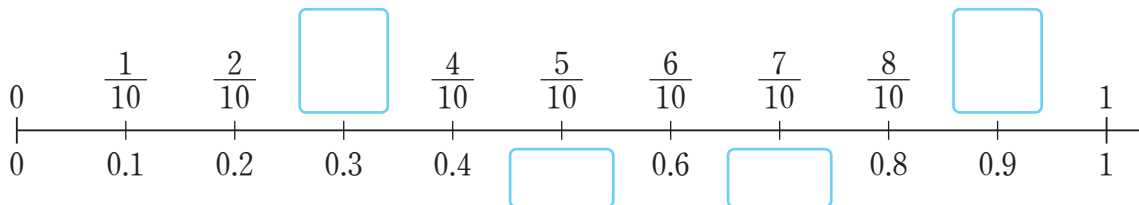
3 가장 큰 수에 ○표 하세요.

$\frac{1}{13}$ 이 5개인 수

$\frac{1}{13}$ 이 7개인 수

$\frac{1}{13}$ 이 4개인 수

4 □ 안에 알맞은 분수 또는 소수를 쓰고 읽어 보세요.



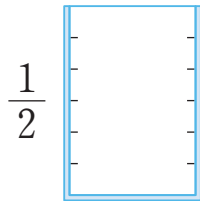
5 두 분수의 크기를 비교하여 ○ 안에 >, =, <를 알맞게 써넣으세요.

$$\frac{7}{12} \bigcirc \frac{11}{12}$$

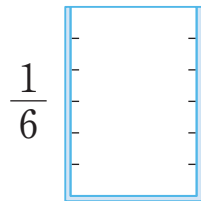
$$\frac{5}{9} \bigcirc \frac{4}{9}$$

$$\frac{13}{15} \bigcirc \frac{8}{15}$$

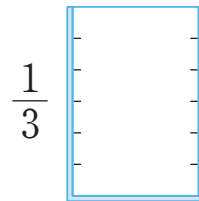
6 슬기, 수일, 지혜가 마시고 남긴 음료의 양만큼 색칠한 다음, 누가 남긴 음료가 가장 많은지 쓰고 그 이유를 써 보세요.



슬기



수일




지혜

답 _____

이유 _____

7 체육 시간에 멀리뛰기를 했습니다. 슬기는 0.8 m, 도영이는 1.1 m, 수일이는 1.3 m, 지혜는 0.9 m를 뛰었습니다. 멀리 뛰 학생부터 차례대로 이름을 써 보세요.



, , ,