




소수의 크기를 비교해 볼까요

- 향초를 꾸미는 데 슬기는 끈 0.3m, 지혜는 끈 0.6m를 사용했습니다. 누가 끈을 더 많이 사용했는지 알아보시다.



- 슬기와 지혜가 사용한 끈의 길이를 어떻게 비교할지 말해 보세요.
- 끈의 길이를 색칠하여 비교해 보세요.



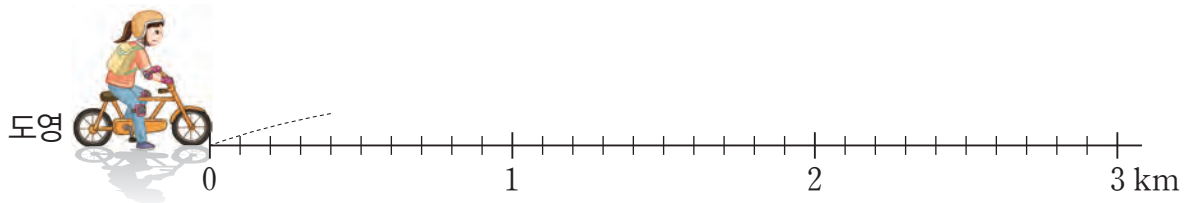
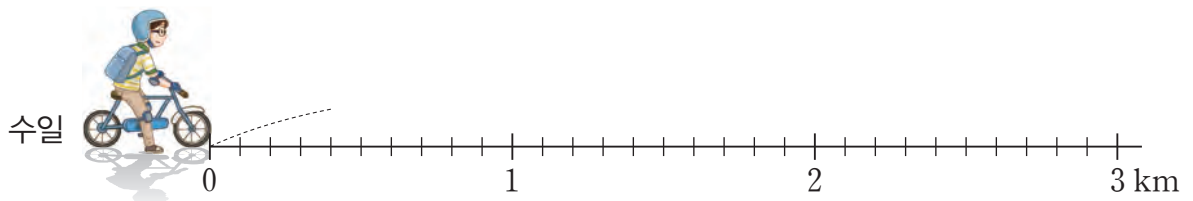
- 0.3과 0.6은 0.1이 각각 몇 개인가요?
- 0.3과 0.6의 크기를 비교하여 ○ 안에 $>$, $=$, $<$ 를 알맞게 써넣으세요.

$$0.3 \quad \bigcirc \quad 0.6$$

☘ 체험을 마치고 수일은 1.9 km 거리에 있는 도서관으로, 도영이는 2.4 km 거리에 있는 집으로 갔습니다. 누가 더 멀리 갔는지 알아봅시다.



- 수일과 도영이가 간 거리를 표시하고 어떻게 비교할지 말해 보세요.



- 1.9와 2.4의 크기를 비교하여 ○ 안에 >, =, <를 알맞게 써넣으세요.

1.9 ○ 2.4



☘ 두 소수의 크기를 비교하여 ○ 안에 >, =, <를 알맞게 써넣어 봅시다.

0.4 ○ 0.7

2.7 ○ 2.5

4.0 ○ 3.5

7.9 ○ 8.1