



소수를 알아볼까요(2)

- ▶ 향초 심지의 길이를 cm로 나타내는 방법을 알아봅시다.



- 향초 심지의 길이는 7 cm보다 몇 mm 더 긴가요?



1 cm는
10 mm예요.

- 1 mm를 cm로 나타내면 얼마일까요?
- 3 mm를 cm로 나타내면 얼마일까요?
- 향초 심지의 길이를 cm로 나타내면 얼마일까요?



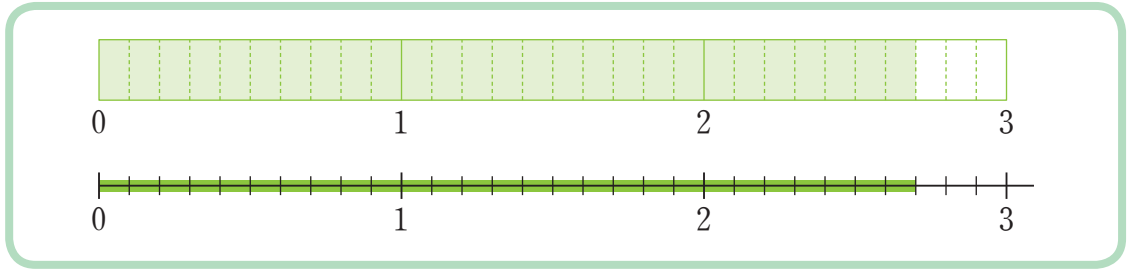
7과 0.3만큼
어떻게 나타내면
좋을까요?



7과 0.3만큼을 **7.3**이라 쓰고 **칠 점 삼**이라고 읽습니다.



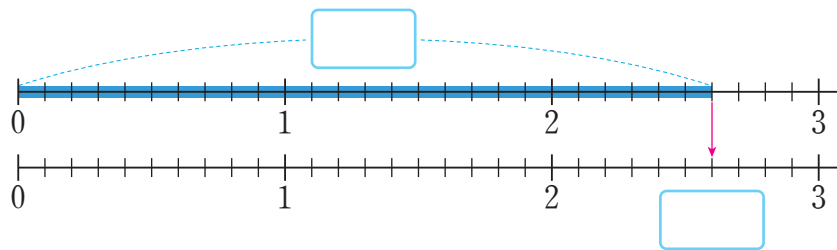
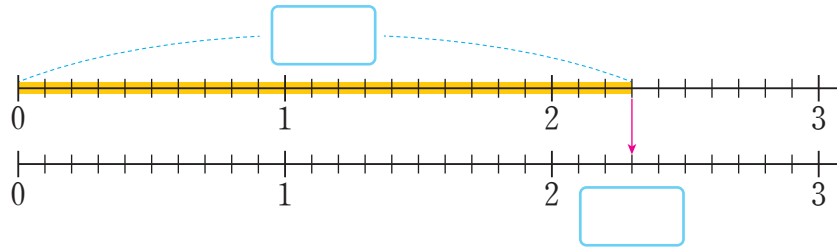
그림을 보고 색칠한 부분을 소수로 나타내는 방법을 알아보시다.



- 색칠한 부분을 소수로 나타내고 읽어 보세요.
- 색칠한 부분은 0.1이 몇 개인가요?



안에 알맞은 소수를 쓰고 읽어 봅시다.



안에 알맞은 수를 써넣어 봅시다.

0.1이 10개이면 입니다.

0.1이 45개이면 입니다.

3 cm 6 mm = cm

15 mm = cm