




분수를 알아볼까요(2)

- 남은 부분과 먹은 부분은 전체의 얼마인지 알아봅시다.



- 전체에 대한 부분을 분수로 나타내어 보세요.




남은 부분은 전체의

남은 부분은 전체의

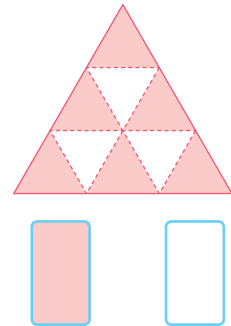
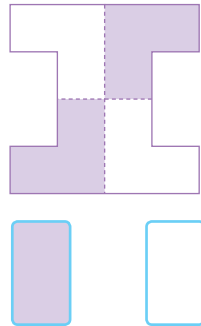
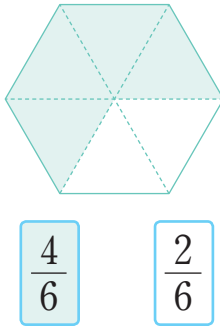
먹은 부분은 전체의

먹은 부분은 전체의

● 부분을 보고 전체를 그려 보세요.



● 색칠한 부분과 색칠하지 않은 부분을 분수로 나타내어 봅시다.



● 주어진 분수만큼 색칠해 봅시다.

