



똑같이 나누어 볼까요


피자 한 판을 사람 수에 맞게 똑같이 나누어 봅시다.



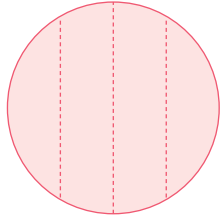
두 명이 똑같이 먹으려면 어떻게 나누어야 할까요?




네 명일 때는 어떻게 똑같이 나누어야 할까요?

 똑같이 나누어진 도형을 모두 찾아봅시다.

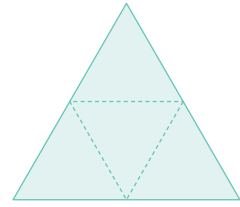
가




나



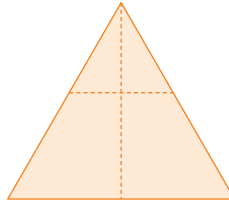
다



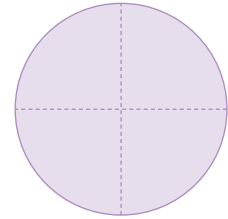
라




마



바



 색종이를 여러 가지 방법으로 똑같이 넷으로 나누어 봅시다.

