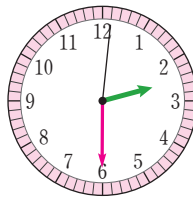
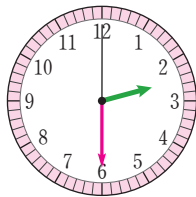
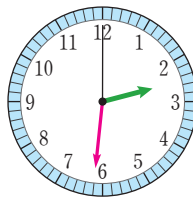
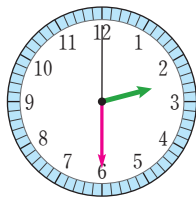


## 1분보다 작은 단위는 무엇일까요

공부한 날 월 일

1  안에 알맞은 수를 써넣으세요.초바늘이 작은 눈금 한 칸을 가는 동안 걸리는 시간:  초초바늘이 시계를 한 바퀴 도는 데 걸리는 시간:  초

2 1초 동안 할 수 있는 일을 모두 찾아 ○표 하세요.

- 손뼉 한 번 치기 (            )
- 양치질하기 (            )
- 동화책 한 권 읽기 (            )
- 자리에서 일어나기 (            )

3 시각을 읽어 보세요.

 시  분  초 시  분  초

4  안에 알맞은 수를 써넣으세요.

1분 20초 =  초

120초 =  분

2분 10초 =  초

250초 =  분  초



5  안에 알맞은 시간의 단위를 써넣으세요.

예) 하루에 잠을 자는 시간: 8  시간

- 아침 식사를 하는 시간: 20
- 학교 운동장을 한 바퀴 뛰는 시간: 70
- 현장 체험 학습을 다녀온 시간: 6
- 요구르트 한 병을 마시는 시간: 10



6 **보기** 와 같이 초와 관련된 경험을 한 가지 써 보세요.

**보기**

- 횡단보도를 건널 때 초록색 신호등이 20초 동안 켜져 있었습니다.
- 찬밥을 전자레인지에 40초 동안 데웠습니다.