

# 5

## 길이와 시간



공부할 준비가 되어 있나요

1 주어진 길이를 쓰고 읽어 보세요.

1 m 2 cm    쓰기    \_\_\_\_\_    읽기

3 m 6 cm    쓰기    \_\_\_\_\_    읽기

2 □ 안에 알맞은 수를 써넣으세요.

1 m = □ cm

219 cm = □ m □ cm

4 m 58 cm = □ cm

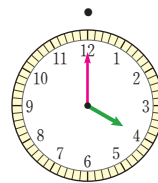
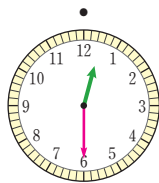
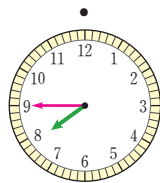
703 cm = □ m □ cm

3 같은 시각끼리 이어 보세요.

12:30

4:00

7:45



4 □ 안에 알맞은 수를 써넣으세요.

1시간 = □ 분

120분 = □ 시간

1시간 30분 = □ 분

135분 = □ 시간 □ 분