



시간은 어떻게 더하고 뺄까요(1)

- 지혜가 음악을 듣고 난 시각을 알아보시다.

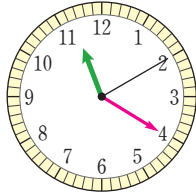


음악 종류	재생 시간
동요	2분 20초
만화 영화 주제가	2분 15초
피아노 연주곡	4분 23초

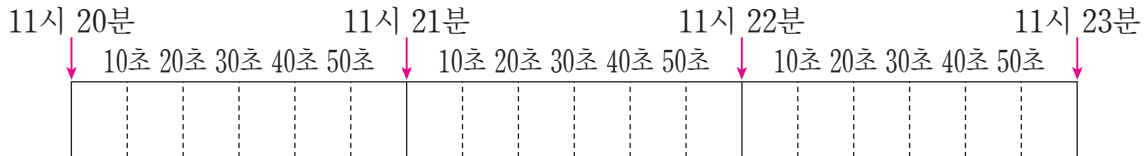
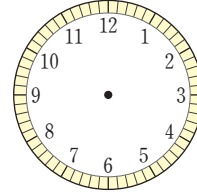
- 지혜는 동요를 듣기로 하였습니다. 동요가 끝난 시각을 나타내어 보세요.

동요를 듣기 시작한 시각

동요가 끝난 시각



2분 20초 후



- 동요가 끝난 시각을 구해 보세요.

$$11\text{시 } 20\text{분 } 10\text{초} + 2\text{분 } 20\text{초} = \boxed{}\text{시 } \boxed{}\text{분 } \boxed{}\text{초}$$

$$\begin{array}{r}
 11 \text{ 시 } 20 \text{ 분 } 10 \text{ 초} \\
 + \quad \quad \quad 2 \text{ 분 } 20 \text{ 초} \\
 \hline
 \boxed{} \text{ 시 } \boxed{} \text{ 분 } \boxed{} \text{ 초}
 \end{array}$$

- 시간의 합을 구하는 방법을 이야기해 보세요.



기차 시간표를 보고, 기차를 타고 서울에서 다른 지역까지 이동하는 데 걸리는 시간을 알아보시다.

기차 시간표							
지역	서울	⇒	지역	대전	동대구	울산	부산
출발 시각	19:10		도착 시각	20:04	20:55	21:20	21:40

- 서울에서 부산까지 이동하는 데 걸리는 시간을 알아보세요.

$$21\text{시 } 40\text{분} - 19\text{시 } 10\text{분} = \square \text{시간 } \square \text{분}$$

$$\begin{array}{r} 21 \text{ 시 } \quad 40 \text{ 분} \\ - 19 \text{ 시 } \quad 10 \text{ 분} \\ \hline \square \text{ 시간 } \quad \square \text{ 분} \end{array}$$

19시는
오후 7시와
같아요.



- 시간의 차를 구하는 방법을 이야기해 보세요.



지혜와 오빠는 만화 영화를 한 편씩 보았습니다. 물음에 답해 봅시다.

만화 영화 제목	나는야 명탐정	우주 탐험	꼬마 여우의 모험
재생 시간	21분 45초	18분 28초	17분 20초

- 오빠는 12시 5분 10초부터 「나는야 명탐정」을 보았습니다. 만화 영화가 끝난 시각을 구해 보세요.
- 지혜가 본 만화 영화는 12시 40분 10초에 시작하여 12시 57분 30초에 끝났습니다. 지혜가 본 만화 영화는 무엇일까요?