

# 길이와 거리를 어렵하고 재어 볼까요

- 길이를 어렵하고 재어 봅시다.



- 주변에 있는 물건의 길이를 어렵하고 자로 재어 확인해 보세요.

| 물건  | 어려한 길이 | 젠 길이 |
|-----|--------|------|
| 지우개 |        |      |
|     |        |      |
|     |        |      |

- 길이에 알맞은 물건을 예상하고 자로 재어 확인해 보세요.

| 길이         | 예상한 물건 | 젠 길이 |
|------------|--------|------|
| 6 mm       |        |      |
| 187 mm     |        |      |
| 25 cm 9 mm |        |      |



친구들과 물건 하나를 정해 각자 어렵한 길이를 비교해 보세요.

물건 하나를 정해 길이를 자로 재고 그것과 길이가 비슷한 다른 물건을 찾아보세요.

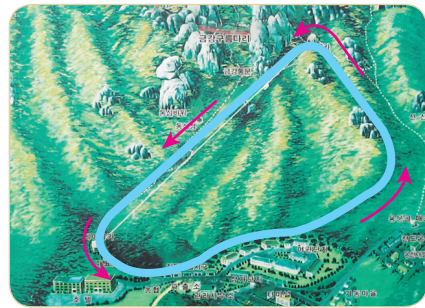


알맞은 단위를 골라 봅시다.




버스의 길이는  
약 12  입니다.

km      m      cm



둘레 길의 전체 길이는  
약 2  입니다.

km      m      cm



건빵의 가로 길이는  
약 29  입니다.

m      cm      mm



축구 골대의 높이는  
약 244  입니다.

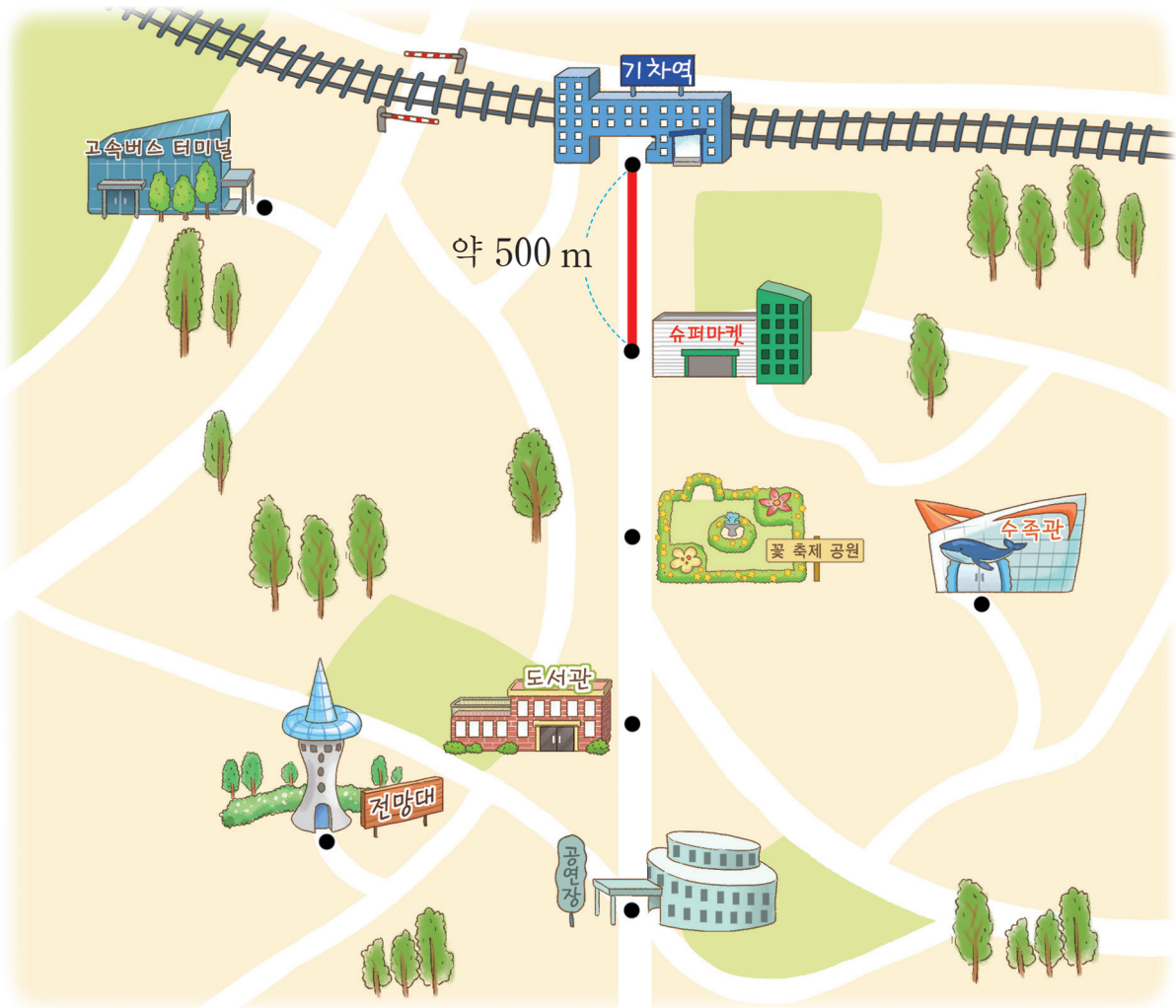
m      cm      mm

5

길이와 시간



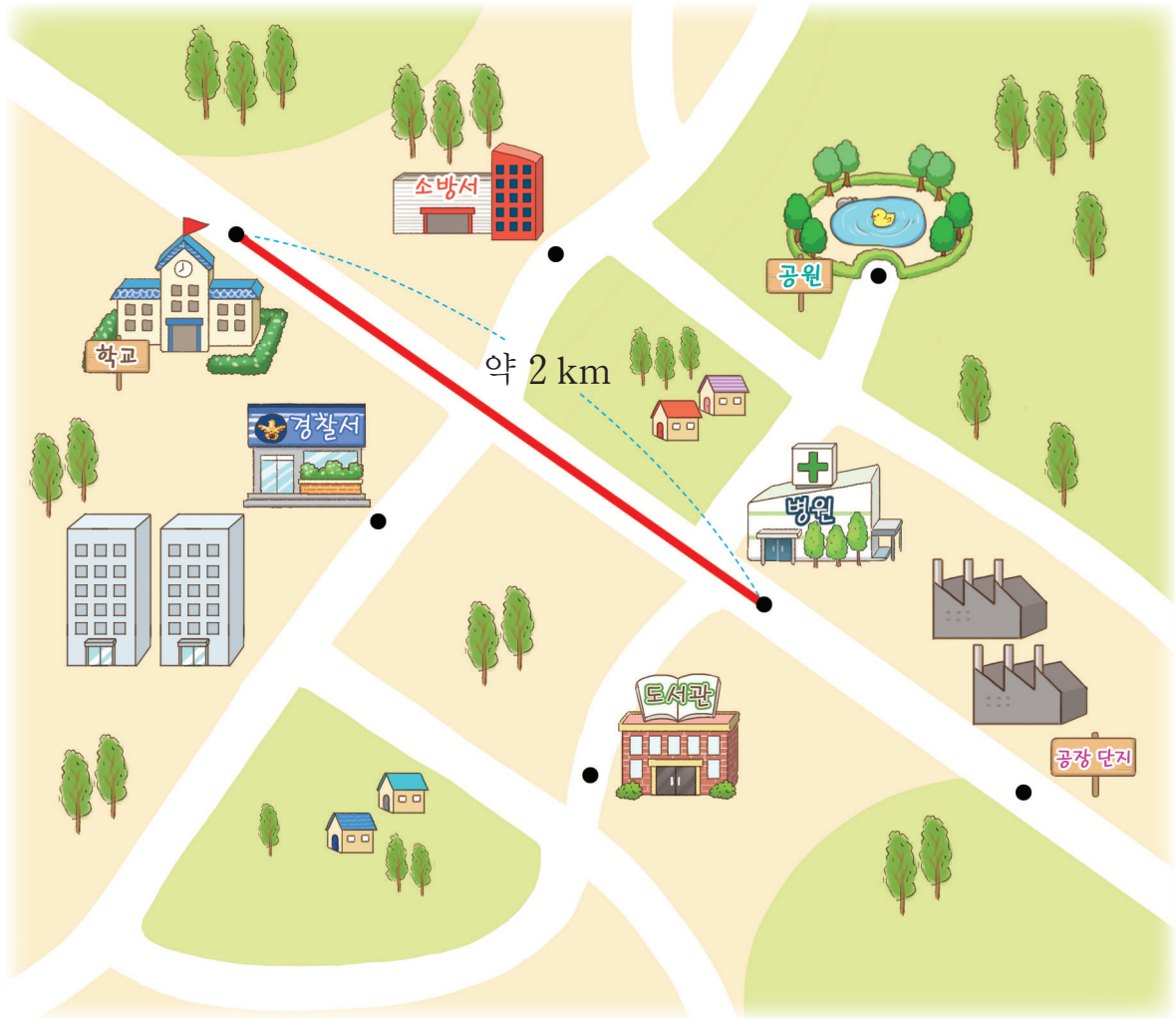
기차역에서 주변에 있는 장소까지의 거리를 어렵해 봅시다.



- 기차역에서 슈퍼마켓까지의 거리는 약 500 m입니다. 기차역에서 꽃 축제 공원까지의 거리는 약 얼마일까요?
- 기차역에서 약 1 km 500 m 떨어진 곳에는 어떤 장소가 있는지 어려워 말해보세요.
- 기차역에서 공연장까지의 거리는 약 얼마일까요?



학교 주변에 어떤 장소가 있는지 이야기해 봅시다.



5

길이와 시간

- 학교에서 병원까지의 거리만큼 떨어진 곳에는 어떤 장소가 있는지 이야기해 보세요.
- 학교에서 약 1 km 떨어진 곳에는 어떤 장소가 있는지 이야기해 보세요.



우리 학교에서 다른 장소까지의 거리도 어렵하고 확인해 봐야지.

우리 고장에서 가 보고 싶은 장소 두 곳을 정하고 두 곳 사이의 거리를 알아보자.

