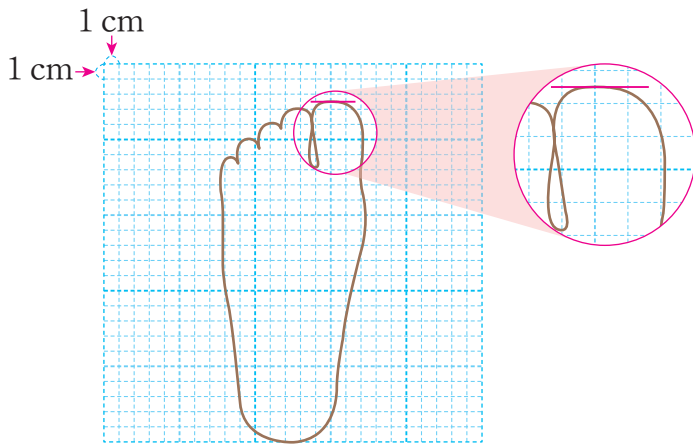




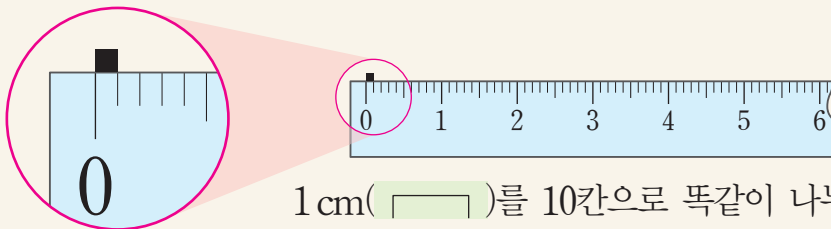
# 1 cm 보다 작은 단위는 무엇일까요

발 길이를 재어 봅시다.

내 발의 길이는 22 cm보다  
길고 23 cm보다 짧아요.  
내 발의 길이는 얼마일까요?



cm로는 재기가 어려워요.  
더 자세히 재려면  
어떻게 해야 할까요?



1 cm( )를 10칸으로 똑같이 나누었을 때( )  
작은 눈금 한 칸의 길이(•)를 **1 mm**라 쓰고 **1 밀리미터**  
라고 읽습니다.

1 mm 1 mm

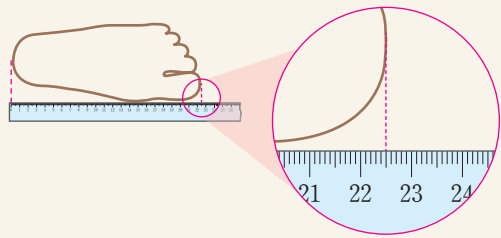
$$1 \text{ cm} = 10 \text{ mm}$$

발 길이를 자세히 재고 읽어 봅시다.



22 cm보다 5 mm 더 긴 것을  
**22 cm 5 mm**라 쓰고  
**22 센티미터 5 밀리미터**라고 읽습니다.  
 22 cm 5 mm는 225 mm입니다.

지혜의 발 길이



$$22 \text{ cm } 5 \text{ mm} = 225 \text{ mm}$$

책가방에 있는 물건을 꺼내서 물건의 길이를 재어 봅시다.



연필의 길이는  
 15 cm보다 8 mm  
 더 길어.

mm 단위로만  
 길이를 재니까  
 단위 앞의 수가  
 더 커졌네.



물건	cm와 mm로 나타내기	mm로 나타내기
연필	15 cm 8 mm	158 mm

주변에서 1 cm보다 짧은 물건을 찾아 길이를 재고 이야기해 봅시다.

