


4

곱셈



공부할 준비가 되어 있나요

1 그림을 보고 □ 안에 알맞은 수를 써넣으세요.

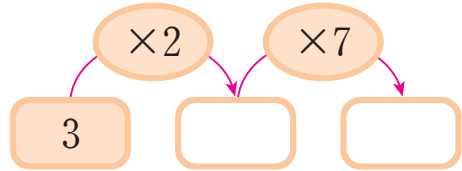
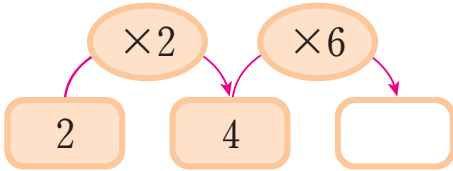


$$\square \times \square = \square$$



$$\square \times \square = \square$$

2 빈칸에 알맞은 수를 써넣으세요.



3 ○ 안에 >, =, < 를 알맞게 써넣으세요.

$$5 \times 4 \quad \bigcirc \quad 3 \times 7$$

$$6 \times 5 \quad \bigcirc \quad 4 \times 8$$

$$5 \times 9 \quad \bigcirc \quad 7 \times 6$$

$$2 \times 8 \quad \bigcirc \quad 4 \times 4$$

4 빈칸에 알맞은 수를 써넣으세요.

| | | | | | | | | | |
|---|---|----|----|---|----|---|----|----|---|
| × | 1 | 2 | 3 | 4 | 5 | 6 | 7 | 8 | 9 |
| 7 | 7 | 14 | 21 | | 35 | | 49 | | |
| 8 | 8 | | 24 | | 40 | | | 64 | |