


# 사용한 모양 조각의 수를 구해 볼까요

- 1 지혜네 반 친구들은 모양 조각으로 무늬 만들기를 하고 있습니다. 사용한 모양 조각의 수를 알아봅시다.




- 수일이가 4종류의 모양 조각을 각각 12개씩 사용하여 만든 무늬입니다. 수일이가 사용한 모양 조각은 모두 몇 개인지 구해 보세요.



어떤 방법으로 무늬를 만들었을까요?



- 지혜가 2종류의 모양 조각을 각각 18개씩 사용하여 만든 무늬입니다. 지혜가 사용한 모양 조각은 모두 몇 개인지 구해 보세요.

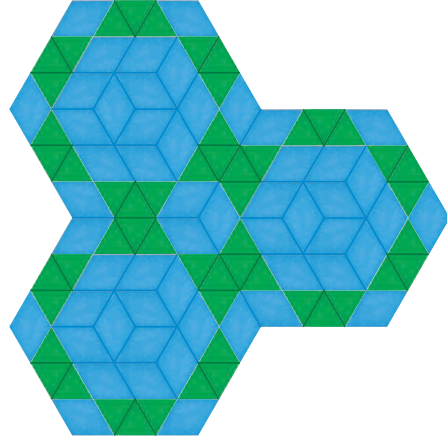


어떤 방법으로 무늬를 만들었을까요?





**2** 지혜와 친구들이 함께 만든 무늬입니다. 사용한 모양 조각의 수를 알아봅시다.



- 사용한 모양 조각은 모두 몇 개인지 구해 보세요.
- 어떻게 계산했는지 이야기해 보세요.

**3** 서로 다른 모양 조각을 같은 수만큼 사용하여 무늬 만들기를 해 봅시다.

- 어떤 방법으로 만들었는지 이야기해 보세요.
- 무늬 만들기에 사용한 모양 조각은 모두 몇 개인지 구해 보세요.
- 어떻게 계산했는지 이야기해 보세요.