



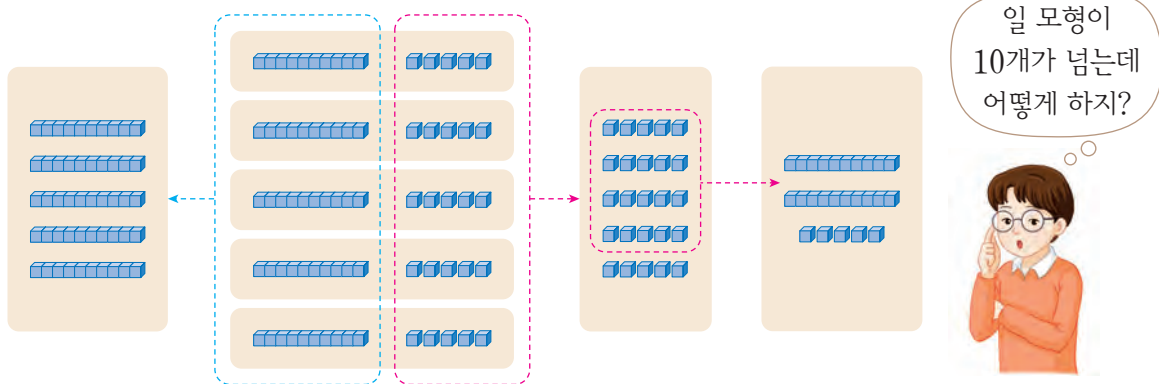
## (몇십몇) × (몇)을 구해 볼까요(3)

- 잔칫날에 오신 할아버지, 할머니께 선물로 드릴 비누를 사려고 합니다. 사야 할 비누는 모두 몇 개인지 알아보시다.




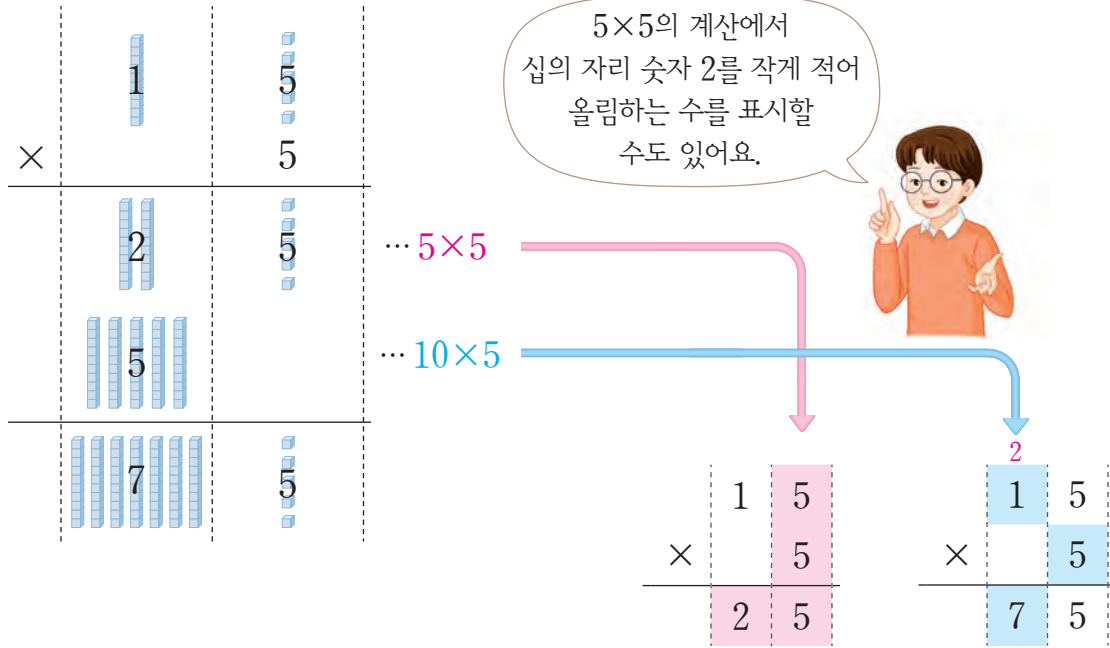
- 비누는 모두 몇 개쯤일지 어렵해 보세요.
- 비누는 모두 몇 개인지 여러 가지 방법으로 구해 보세요.

- 수 모형으로 어떻게 계산하는지 알아보시다.



- 비누는 모두 몇 개인지 곱셈식으로 나타내어 보세요.
- 수 모형으로 어떻게 계산하는지 이야기해 보세요.
- 어려운 결과와 비교해 보세요.

  $15 \times 5$ 를 어떻게 계산하는지 알아보시다.



5×5의 계산에서 십의 자리 숫자 2를 작게 적어 올림하는 수를 표시할 수도 있어요.


...  $5 \times 5$

...  $10 \times 5$

$$\begin{array}{r} 15 \\ \times 5 \\ \hline 75 \end{array}$$

4  
곱셈

•  $15 \times 5$ 를 계산하는 방법을 이야기해 보세요.

 계산해 봅시다.


$$\begin{array}{r} 17 \\ \times 5 \\ \hline \end{array}$$

$$\begin{array}{r} 26 \\ \times 3 \\ \hline \end{array}$$

$$18 \times 4$$

$$27 \times 2$$

 잘못 계산한 곳을 찾아 바르게 계산해 봅시다.



$$\begin{array}{r} 16 \\ \times 3 \\ \hline 38 \end{array} \Rightarrow \begin{array}{r} 16 \\ \times 3 \\ \hline \end{array}$$