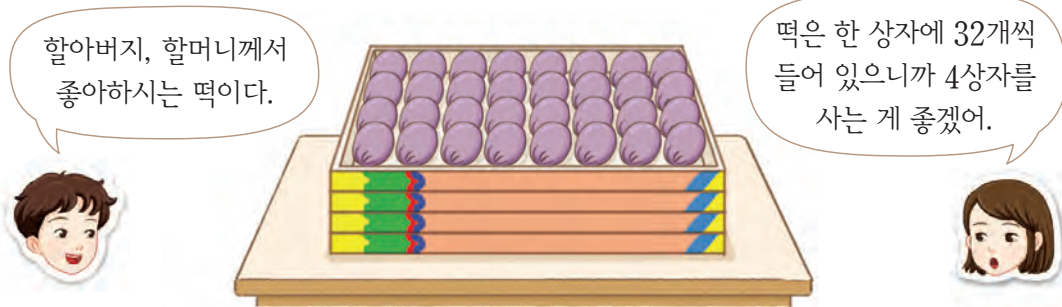




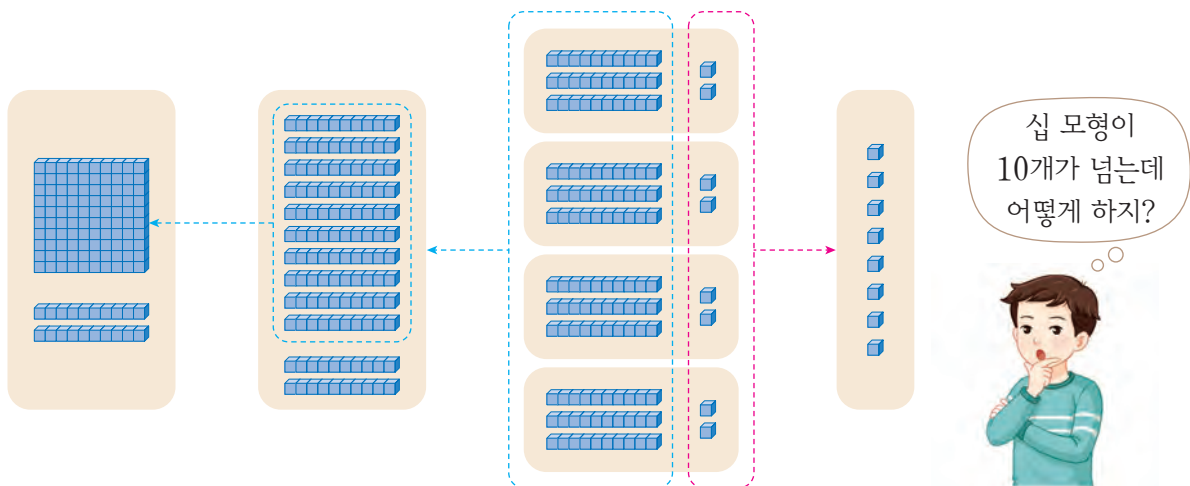
(몇십몇) × (몇)을 구해 볼까요(2)

- 우리 농산물로 만든 떡을 사려고 합니다. 사야 할 떡은 모두 몇 개인지 알아보시다.




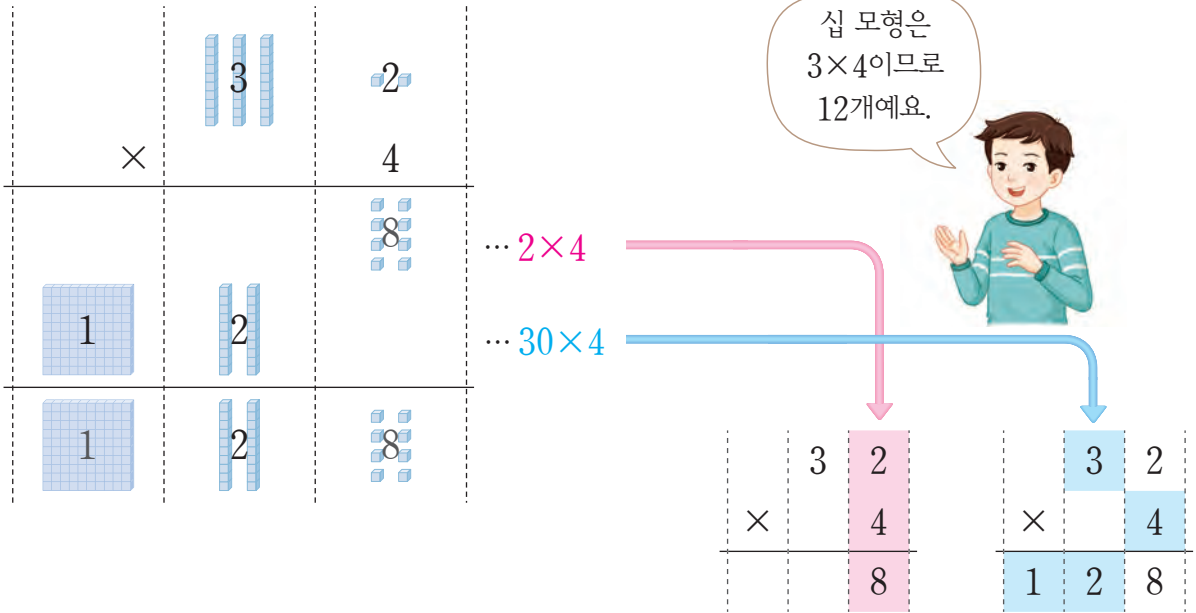
- 떡은 모두 몇 개쯤일지 어렵해 보세요.
- 떡은 모두 몇 개인지 여러 가지 방법으로 구해 보세요.
- 어떻게 구할지 이야기해 보세요.

- 수 모형으로 어떻게 계산하는지 알아보시다.



- 떡은 모두 몇 개인지 곱셈식으로 나타내어 보세요.
- 수 모형으로 어떻게 계산하는지 이야기해 보세요.
- 어려운 결과와 비교해 보세요.

 32×4 를 어떻게 계산하는지 알아보시다.




십 모형은 3×4 이므로 12개예요.

$\dots 2 \times 4$

$\dots 30 \times 4$

● 32×4 를 계산하는 방법을 이야기해 보세요.


 계산해 봅시다.

$$\begin{array}{r} 62 \\ \times 3 \\ \hline \end{array}$$

$$\begin{array}{r} 71 \\ \times 6 \\ \hline \end{array}$$

$$31 \times 5$$

$$54 \times 2$$

 빈칸에 알맞은 수를 써 봅시다.

\times	61	72	83	94
2	122		166	