

# 직각을 알아볼까요

공부한 날

월

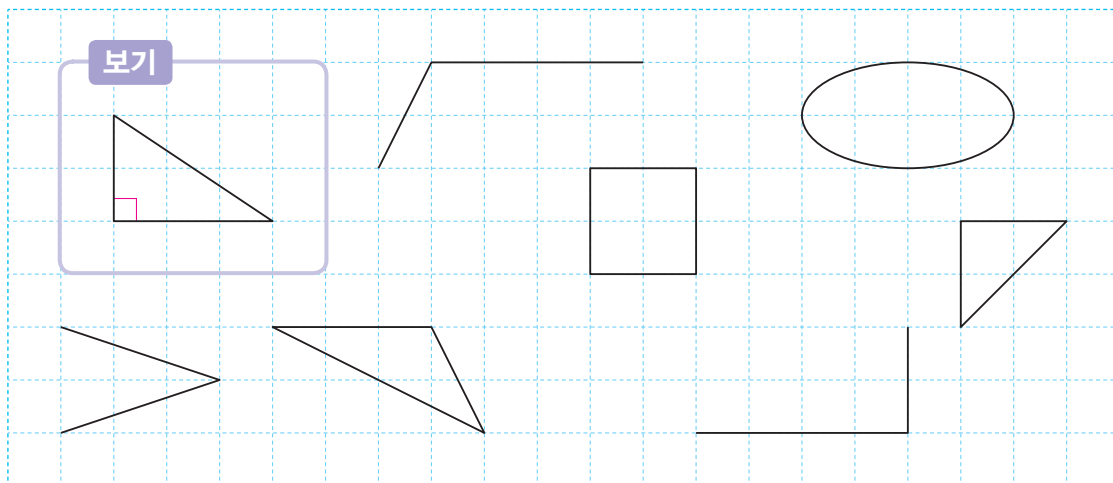
일

1 그림을 보고 ☐ 안에 알맞은 말을 써넣으세요.



왼쪽 그림과 같이 직각 삼각자를  
대었을 때 꼭 맞게 겹쳐지면  
이 각은  입니다.

2 보기 와 같이 직각을 찾아 ☐ 로 표시해 보세요.



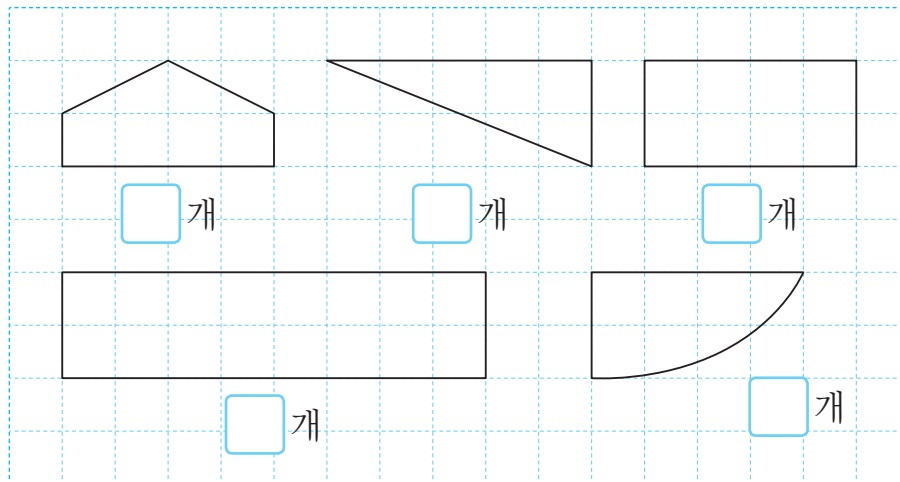
3 직각 삼각자를 사용하여 점  $\angle$  을 꼭짓점으로 하는 직각을 그려 보세요.



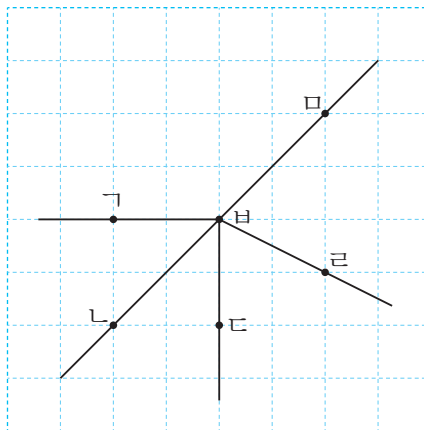
직각 삼각자의  
직각인 부분을 이용하여  
그리면 돼요.



4 도형에서 직각을 찾고 직각이 모두 몇 개인지 써 보세요.



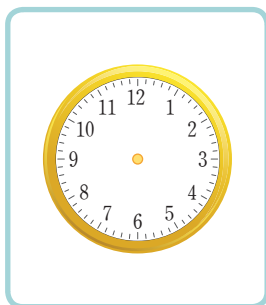
5 직각을 찾아 써 보세요.




2

평면도형

6 친구들이 설명하는 시각을 구해 보세요.



1시와 7시 사이의 시각입니다.



긴바늘이 12를 가리킵니다.



긴바늘과 짧은바늘이 이루는 각은 직각입니다.

(                      )시